




Kurikulum
Merdeka

Lembar Kerja Peserta Didik

MATEMATIKA

Materi: Bangun Datar



NAMA _____

KELAS : _____

Topik: Bangun Datar

Capaian Pembelajaran:

Pada akhir fase C, peserta didik dapat menentukan keliling dan luas berbagai bentuk bangun datar (segitiga, persegi, persegi panjang, jajar genjang, layang layang, belah ketupat, trapesium dan lingkaran).

Tujuan Pembelajaran:

1. Peserta didik dapat menyebutkan jenis-jenis bangun datar beserta ciri-cirinya.
2. Peserta didik dapat menjelaskan perbedaan antara berbagai jenis bangun datar (seperti persegi, segitiga, dan lingkaran).
3. Peserta didik dapat menghitung luas dan keliling dari berbagai bangun datar dengan menggunakan rumus yang tepat.
4. Peserta didik dapat membedakan bangun datar berdasarkan sifat-sifatnya, seperti sisi sejajar dan sudut.

Petunjuk Pengerjaan:

1. Bacalah langkah-langkah pengerjaan sebelum mengerjakan soal.
2. Soal dikerjakan secara berkelompok/individu
3. Jawablah pertanyaan dengan memperhatikan perintah soal dengan tepat

Nama:

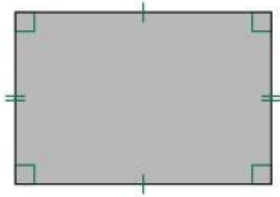
Kelas:



Bangun Datar



Isikan jawaban yang benar pada kolom yang tersedia!




Nama Bangun Datar :

Jumlah Sisi :

Jumlah Sudut :

Jumlah Diagonal :

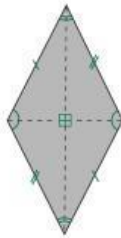


Nama Bangun Datar :

Jumlah Sisi :

Jumlah Sudut :

Jumlah Diagonal :

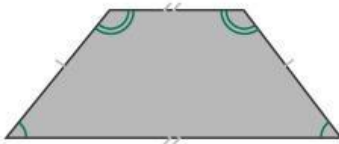


Nama Bangun Datar :

Jumlah Sisi :

Jumlah Sudut :

Jumlah Diagonal :



Nama Bangun Datar :

Jumlah Sisi :

Jumlah Sudut :

Jumlah Diagonal :

Nama:

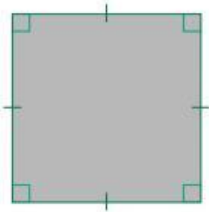
Kelas:



Bangun Datar



Isikan jawaban yang benar pada kolom yang tersedia!

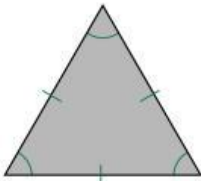


Nama Bangun Datar :

Jumlah Sisi :

Jumlah Sudut :

Jumlah Diagonal :

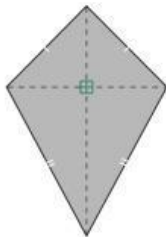


Nama Bangun Datar :

Jumlah Sisi :

Jumlah Sudut :

Jumlah Diagonal :

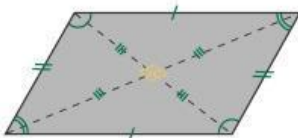


Nama Bangun Datar :

Jumlah Sisi :

Jumlah Sudut :

Jumlah Diagonal :



Nama Bangun Datar :

Jumlah Sisi :

Jumlah Sudut :

Jumlah Diagonal :

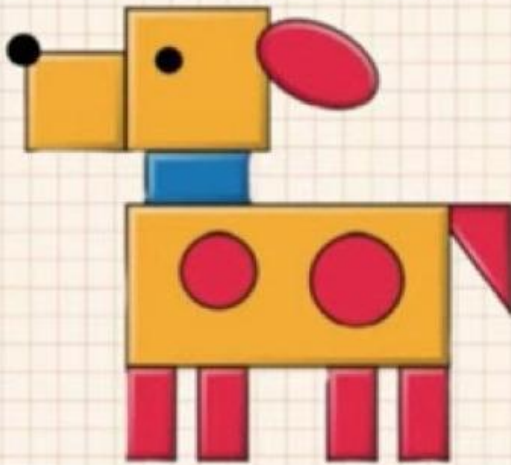
Nama:

Kelas:

Perhatikan Gambar Berikut!!

Ayo mencoba

Hitunglah banyaknya bentuk bangun pada gambar berikut !



- Gambar anjing tersebut tersusun dari....Bangun datar
- Bentuk lengkung ada.....
- Segi empat ada.....
- Segitiga ada.....

Pertanyaan:

Hitunglah banyak bangun datar pada gambar diatas dan tuliskan jawabannya pada kolom dibawah?

Jawaban:

Nama:

Kelas:

Perhatikan Gambar dibawah ini!!

MENGURAIKAN BENTUK BANGUN DATAR

Amatilah gambar kereta.
Temukan bentuk bangun pada kereta



Kereta disusun dari..... Bangun datar

-segi empat
-segitiga
-bentuk lengkung

Pertanyaan:

Amatilah kereta diatas dan temukan bentuk bangun pada kereta dan tuliskan jawabannya pada kolom dibawah



Jawaban:

Nama:

Kelas:

Bangun Datar

Hitung jumlah bangun datar yang menyusun robot kemudian tuliskan jumlahnya pada kotak yang tersedia



Pertanyaan:

Hitunglah Bangun datar yang ada pada susunan robot diatas dan tuliskan jawabanmu dibawah ini

Jawaban: