

Lembar Kerja Peserta Didik

LKPD

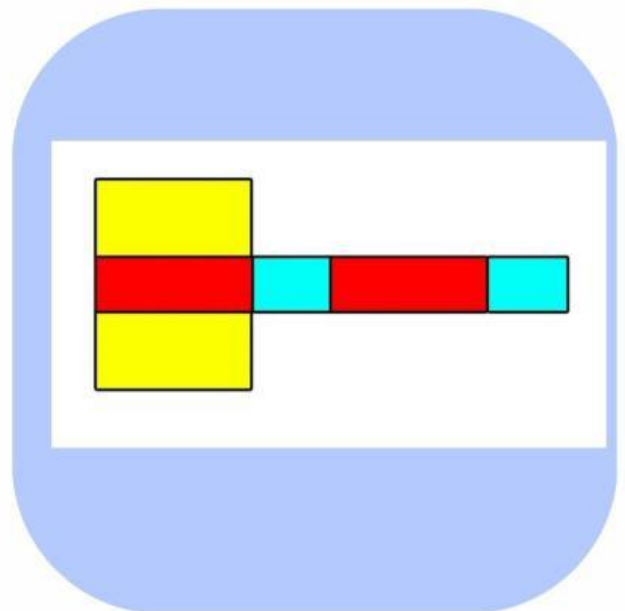
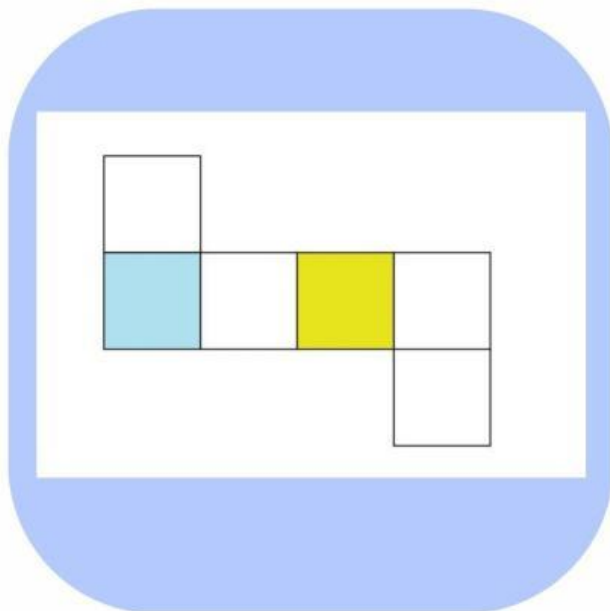
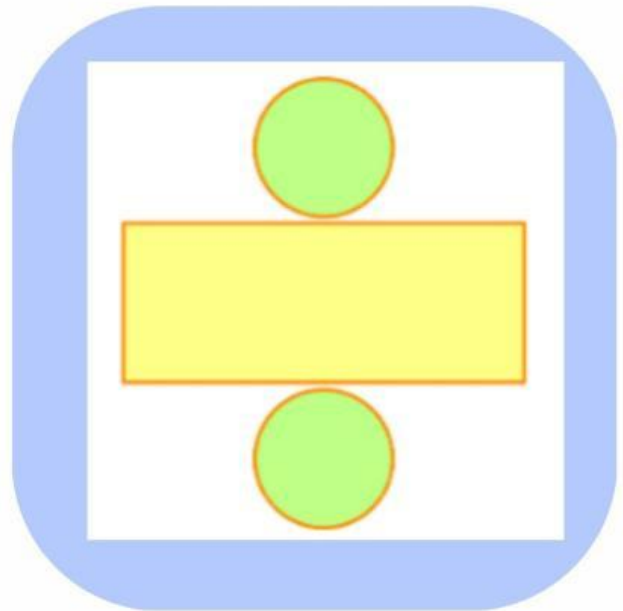
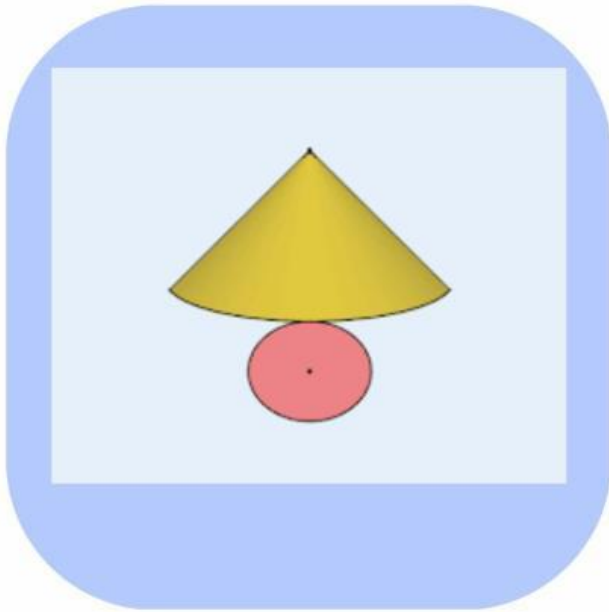
Bangun Ruang Sisi Lengkung



Nama :

Kelas :

1. **Dibawah ini Jaringan-jaring tabung yang benar adalah**



2. sebutkan bentuk bangun ruang benda dibawah ini



3. Isilah tabel ini dengan benar berdasarkan jumlah

Bangun Ruang	Sisi	Rusuk	Titik Sudut
Tabung	<input type="text"/>	<input type="text"/>	<input type="text"/>
Kerucut	<input type="text"/>	<input type="text"/>	<input type="text"/>
Bola	<input type="text"/>	<input type="text"/>	<input type="text"/>

4. Jodohkan Luas dan Volume dengan bangun ruang

bangun ruang

Volume & Luas



$$4\pi r^2$$
$$\pi r(r + s)$$



$$\frac{1}{3} \times \pi r^2 t$$
$$\frac{4}{3} \times \pi r^3$$



$$2\pi r(r + t)$$
$$\pi r^2 \times t$$