

Lembar Kerja Peserta Didik

# LKPD

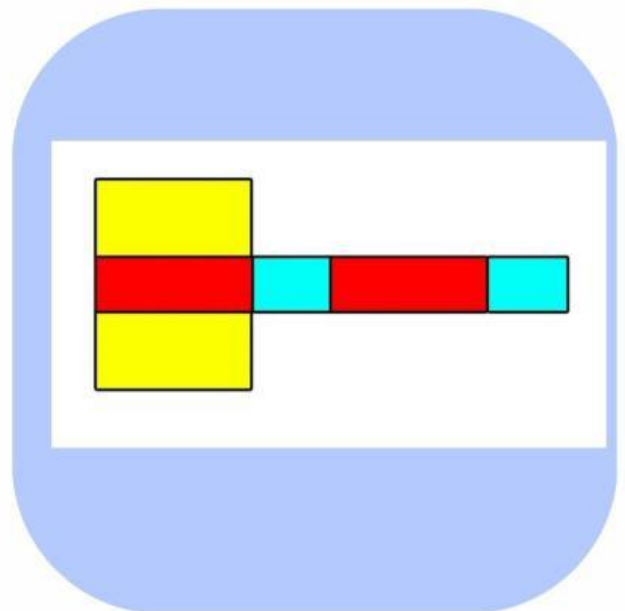
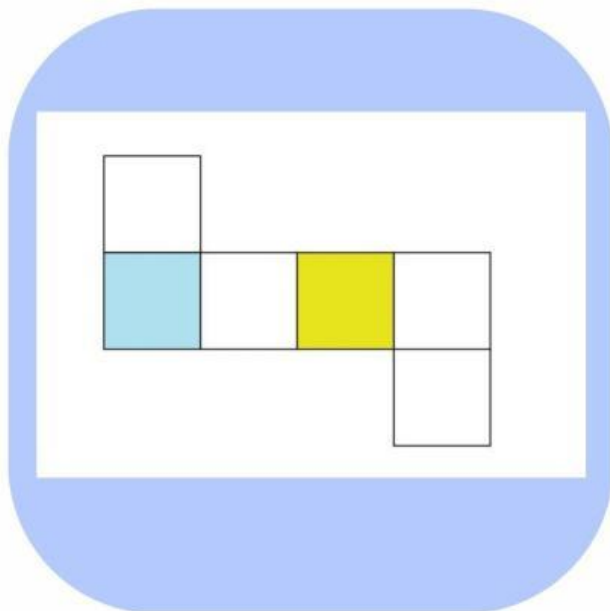
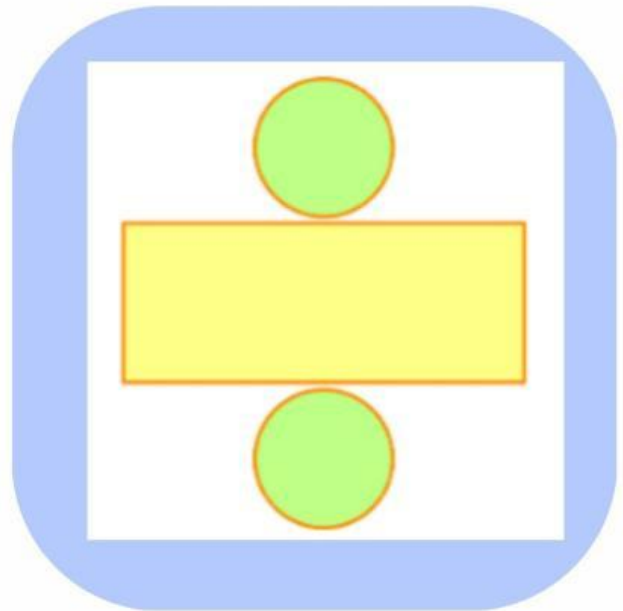
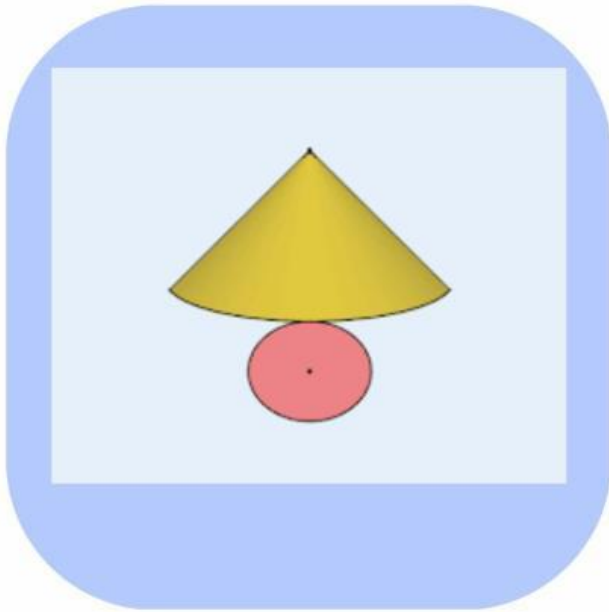
Bangun Ruang Sisi Lengkung



Nama : .....

Kelas : .....

1. **Dibawah ini Jaringan-jaring tabung yang benar adalah**



## 2. sebutkan bentuk bangun ruang benda dibawah ini



### 3. Isilah tabel ini dengan benar berdasarkan jumlah

Bangun Ruang	Sisi	Rusuk	Titik Sudut
Tabung			
Kerucut			
Bola			

### 4. Jodohkan Luas dan Volume dengan bangun ruang

Luas

bangun ruang

Volume

$$\pi r(r + s)$$



$$4\pi r^2$$

$$\frac{4}{3} \times \pi r^3$$



$$\pi r^2 \times t$$

$$2\pi r(r + t)$$



$$\frac{1}{3} \times \pi r^2 t$$