



LEMBAR KERJA PESERTA DIDIK



INFORMATIKA

TAHUN AJARAN 2024/2025



DISUSUN OLEH:

INDAH NUR FITRIANA, S.PD



CAPAIAN PEMBELAJARAN

- Peserta didik mampu mendeskripsikan setiap komponen komputer beserta fungsinya.
- Mendeskripsikan cara kerja komputer.

RINGKASAN MATERI

Komputer tersusun dari beberapa komponen yang saling mendukung satu sama lain sehinggamampu menjalankan komputer dengan lancar dan optimal. Komponen komputer terdiri atas beberapa bagian, yaitu perangkat masukan (input device), perangkat pemroses (processing device), perangkat keluaran (output device), dan perangkat penyimpanan (storage device). Selain itu, dalam sistem komputer terdapat komponen yang dinamakan perangkat pendukung atau peripheral device. Perangkat pendukung adalah perangkat yang tidak wajib ada dalam sebuah perangkat komputer. Tanpa adanya perangkat pendukung tersebut, komputer masih tetap dapat dioperasikan dengan baik. Jika dalam suatu sistem komputer terdapat perangkatpendukung, maka akan meningkatkan performa dan kualitas yang dihasilkan oleh komputer. Beberapa perangkat yang dapat dikategorikan ke dalam perangkat pendukung (peripheral device), seperti web camera, microphone, flashdisk, speaker, stylus, dan proyektor.

PETUNJUK Pengerjaan

1. Peserta didik mengerjakan lkpd bersama teman sekelompok
2. Peserta didik diperbolehkan menggunakan berbagai sumber belajar
3. Peserta didik mengerjakan sesuai perintah pada soal.

KEGIATAN 1



Simak materi pada PDF yang telah dibagikan guru mu

Suatu kesatuan elemen yang saling berhubungan sehingga membentuk suatu kelompok dalam melaksanakan suatu tujuan pokok yang ditargetkan disebut dengan

Perangkat elektronik yang menerima, menyimpan dan memproses data menjadi informasi secara matematis atau logis sesuai dengan serangkaian instruksi yang diprogram adalah

3. Komputer lengkap yang mencakup perangkat keras, sistem operasi (perangkat lunak utama), dan peralatan periferal yang diperlukan dan digunakan untuk operasi penuh adalah

Disusun oleh : Indah Nur Fitriana,S.Pd



Pasangkan pernyataan berikut dengan gambar yang tepat!



Hardware



Brainware



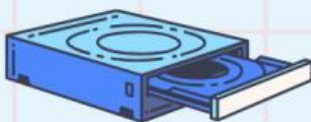



Software



KEGIATAN 2



ISILAH JENIS GAMBAR BERIKUT DENGAN PIRANTI YANG SESUAI!



Disusun oleh : Indah Nur Fitriana,S.Pd

