



PHIẾU HỌC TẬP

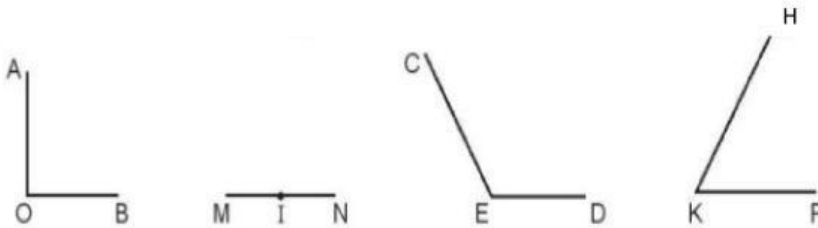


Mã 4301

Ngàytháng.....năm

Họ và tên: Lớp :.....

Câu 1. Nối các hình sau với tên gọi của góc tương ứng



Góc tù

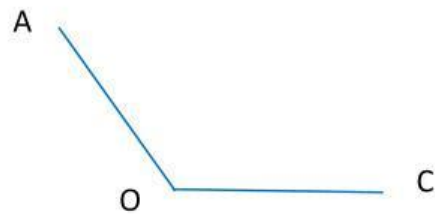
Góc vuông

Góc nhọn

Góc bẹt

Câu 2. Góc trong hình bên được đọc là

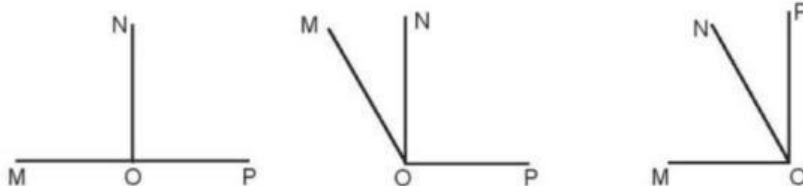
- A. Góc đỉnh A, cạnh OA, OC
- B. Góc đỉnh C, cạnh OA, OC
- C. Góc đỉnh O, cạnh A, C
- D. Góc đỉnh O, cạnh OA, OC



Câu 3. Thời điểm khi mà kim giờ và kim phút tạo thành một góc nhọn là:

- A. 1 giờ
- B. 6 giờ
- C. 7 giờ
- D. 9 giờ

Câu 4. Bạn An vẽ góc đỉnh O, cạnh OM, ON có số đo 90° và góc đỉnh O, cạnh ON, OP cũng có số đo 90° . Hình nào sau đây là hình bạn An vẽ?





Câu 5. Kéo các mốc thời gian mà kim giờ và kim phút tạo thành các góc nhọn, góc vuông, góc tù, góc bẹt

2 giờ

3 giờ

6 giờ

8 giờ
15 phút

9 giờ

9 giờ
45 phút

7 giờ
30 phút

1 giờ
10 phút

Góc nhọn

Góc vuông

Góc tù

Góc bẹt

Câu 6. Bấm vào link dưới đây để hoàn thành bài tập.

