

## SUMATIF TENGAH SEMESTER IPAS KLS 6

### KURIKULUM MERDEKA

1. Tulang lengan atas manusia berbentuk bulat dan memanjang dari bahu hingga siku berdasarkan bentuknya, tulang lengan atas termasuk jenis tulang ...
  - A. Pipa
  - B. Pendek
  - C. Pipih
  - D. Tidak beraturan
2. Sendi fibrosa adalah sendi penghubung dua tulang atau lebih, tetapi tidak dapat menimbulkan pergerakan. Sendi fibrosa terdapat di antara ...
  - A. Tulang pergelangan kaki
  - B. Tulang belakang
  - C. Tulang jari tengah
  - D. Tulang tengkorak
3. Otak terhubung dengan jaringan saraf di seluruh tubuh dan membantu tubuh merespon rangsangan dari luar. Otak berperan sebagai pusat pengendalian untuk mengoordinasikan kerja semua anggota tubuh. Misalnya saat suhu di sekitar panas, otak akan memerintahkan tubuh untuk mencari kipas agar tidak kepanasan. Oleh karena itu, otak di kelompokkan dalam sistem saraf ...
  - A. Tidak sadar
  - B. Sadar
  - C. Simpatik
  - D. Parasimpatik

4. Perhatikan gambar berikut!








Penyebab kelainan system gerak pada gambar tersebut adalah ...

- A. Mengalami benturan dengan benda keras
- B. Sering membawa beban berat di punggung
- C. Memiliki berat badan yang berlebihan
- D. Kurangnya penyerapan kalsium pada tulang

5. Vitamin D adalah salah satu nutrisi yang di perlukan tubuh untuk menjaga kesehatan system gerak. Vitamin ini dapat di peroleh dengan cara ...
- A. Berolahraga
  - B. Tidur yang cukup
  - C. Berjemur sinar matahari pagi
  - D. Memperhatikan posisi duduk
6. Bangsa-bangsa eropa datang ke nusantara untuk melakukan penjajahan demi menguasai daerah penghasil rempah-rempah. Urutan ke datangan bangsa eropa ke nusantara adalah ...
- A. Portugis-Spanyol-Belanda-Inggris
  - B. Portugis-Spanyol-Inggris-Belanda
  - C. Spanyol-Portugis-Inggris-Belanda
  - D. Spanyol-Portugis-Belanda-Inggris
7. Perang padri awalnya merupakan perang antara sesama rakyat minang (kaum adat dengan kaum padri) karena perselisihan praktik keagamaan. Belanda bergabung untuk membantu kaum adat. Awalnya, kaum padre di pimpin oleh Datuk Bundaro, kemudian di ganti tuanku imam bonjol. Belanda hampir mengalami kekalahan karena strategi gerilya yang di terapkan pasukan tuanku imam bonjol. Namun, belanda mampu membalikan keadaan dan memenangkan pertempuran karena jumlah pasukannya yang meningkat.
- Cara belanda memenangkan pertempuran dalam perang padri adalah ...
- A. Melakuakan adu domba
  - B. Mengganti ketua pasukan
  - C. Menerapkan strategi gerilya
  - D. Menambah jumlah pasukan
8. Masa pergerakan nasional di tandai dengan pembentukan organisasi-organisasi di berbagai bilangan. Pada masa pergerakan nasional, bangsa Indonesia mengalami beberapa perkembangan. Salah satu perkembangan tersebut adalah ...
- A. Adanya sistem pemilihan umum
  - B. Lahirnya ikrar sumpah pemuda
  - C. Ada kerja sama dengan Hindia Belanda
  - D. Lahirnya golongan terpelajar dan cendekiawan
9. Menjelang kemerdekaan Indonesia terdapat peristiwa penting, yaitu kekalahan jepang dalam perang pasifik. Kekalahan tersebut di sebabkan oleh ...
- A. Jumlah pasukan jepang yang sedikit
  - B. Persenjataan jepang kurang memandai
  - C. Serangan bom atom di kota penting jepang
  - D. Adanya pembontakan dari negara jajahan
10. Cara mempertahankan kemerdekaan Indonesia di tunjukan oleh kegiatan...





1		<ul style="list-style-type: none"> <li>• Tokoh yang menyumbangkan ide pada naskah proklamasi, kemudian turut menandatangani atas nama bangsa Indonesia.</li> </ul>
2		<ul style="list-style-type: none"> <li>• Tokoh penjahit bendera pusaka merah putih yang dikibarkan pada saat proklamasi kemerdekaan.</li> </ul>
3		<ul style="list-style-type: none"> <li>• Tokoh yang mengusulkan Soekarno dan Mohammad Hatta untuk menandatangani teks proklamasi.</li> </ul>
4		<ul style="list-style-type: none"> <li>• Toko yang membacakan teks proklamasi.</li> </ul>
5		<ul style="list-style-type: none"> <li>• Toko yang membujuk golongan muda dan menjemput Soekarno dan Muhammad Hatta dari Rengasdengklok</li> </ul>

1. Tulang tidak dapat beregrak sendiri. Oleh Karena itu, tulang di sebut dengan ...
2. Otot ini bekerja secara terus-menerus secara otomatis, tetepi tidak mudah lelah. Otot ini terdapat pada dinding jantung. Otot ini di namakan ...
3. Melakukan olahraga berat tanpa di awali dengan pemanasan dapat menyebabkan kelainan sistem gerak berupa otot yang mengejang. Kelamin otot tersebut di namakan ...
4. Bangsa eropa yang paling lama menjajah di nusantara adalah ...
5. Penyusunan teks proklamasi kemerdekaan di lakukan di kediaman ...

Pilihlah jawaban dengan tepat sesuai jawaban dibagian bawah!

6. Sebutkan fungsi rangka tubuh manusia ?

7. Tetanus adalah penyakit sistem gerak yang di sebabkan oleh bakteri Clostridium tetani dan moloran hewan atau benda-benda berkat. Bakteri tersebut dapat masuk melalui luka terbuka pada tubuh. Penyakit tetanus mengakibatkan otot menjadi kaku, tegang dan sulit bergerak. Bagaimana cara menjaga kesehatan sistem gerak agar terhindar dari penyakit tetanus ?

8. Politik etis di bentuk oleh belanda sebagai upaya untuk meningkatkan kesejahteraan rakyat Indonesia yang telah banyak menderita akibat penjajahan. Sebutkan isi politik etis tersebut ?

9. Jelaskan secara singkat tentang peristiwa pembacaan teks proklamasi ?

10. Sebutkan tiga contoh usaha memajukan negara indonesia dalam rangka mempertahankan kemerdekaan ?

- Menggunakan vaksin tetanus.
- Menjaga kebersihan lingkungan.
- Menjaga kesehatan sistem gerak agar terhindar dari penyakit tetanus.

- Irigasi (Pertanian)
- Edukasi (Pendidikan)
- Emigrasi (Transmigrasi)

- Melindungi organ dalam.
- Membantu pergerakan tubuh.
- Menghasilkan sel darah merah.

- Mematuhi tata tertib sekolah
- Giat belajar.
- Menjaga nama baik diri dan sekolah.
- Mengamalkan pancasila dalam kehidupan sehari-hari.

Teks proklamasi kemerdekaan Indonesia di baca oleh Ir Soekarno pada tanggal 17 agustus 1945 di jalan pegangsaan timur no. 56, Jakarta proklamasi ini menandai lahirnya negara indonesia yang merdeka dan berdaulat