


## PROBLEMA 1


¿Cuántos cubitos hay en total?



Respuesta:

## PROBLEMA 2

¿Cuántas manzanas faltan para llegar a una decena?



Respuesta:

### PROBLEMA 3

¿Cuántos pares de pelotas hay en total?



Respuesta:

### PROBLEMA 4

Hallar el valor de "x"

4    7    3

5    9    4

6    ( x )    2

Respuesta:

### PROBLEMA 5

A Camila le faltan 3 años para cumplir 7 años.  
¿Cuántos años tiene ahora?



Respuesta:

### PROBLEMA 6

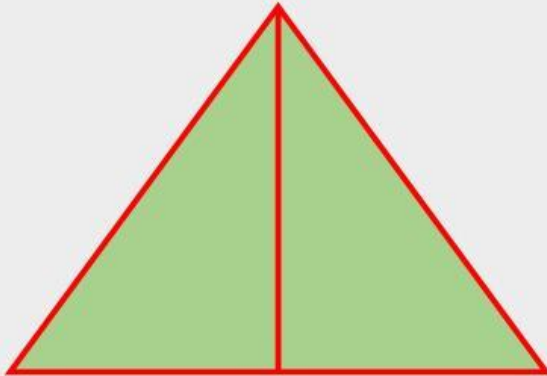
Si se cumple que:  $a \# b = a + b$

Hallar:  $9 \# 8 =$

Respuesta:

### PROBLEMA 7

¿Cuántos triángulos hay en total?



Respuesta:

### PROBLEMA 8

José tiene 26 caramelos de limón  
y 43 caramelos de menta.

¿Cuántos caramelos tiene en total?



Respuesta:

### PROBLEMA 9

Suma el número anterior  
con el número posterior de:

	8	
--	---	--

Respuesta:

### PROBLEMA 10

¿Qué número continúa en la siguiente sucesión?

20; 18; 16 ; 14;