



GUÍA DE TRABAJO SOBRE FUNCIONES

1.- Completa las tablas e indica a que tipo de función corresponde.

$$f(x) = -2x$$

x	y
-12	
21	
-23	
31	

1 pto. c/u

2 ptos

$$f(x) = 2x + -14$$

x	y
-12	
21	
-23	
31	

1 pto. c/u

2 ptos

$$f(x) = -5x$$

x	y
-7	
13	
-18	
27	

1 pto. c/u

2 ptos

$$f(x) = -10x + -20$$

x	y
-8	
10	
-15	
24	

1 pto. c/u

2 ptos

$$f(x) = -6x - -5$$

x	y
-4	
6	
-6	
12	

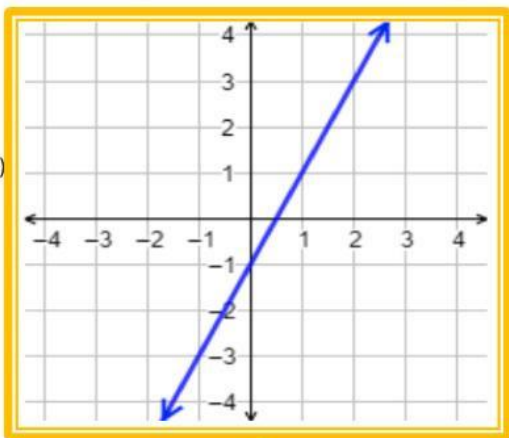
1 pto. c/u

2 ptos

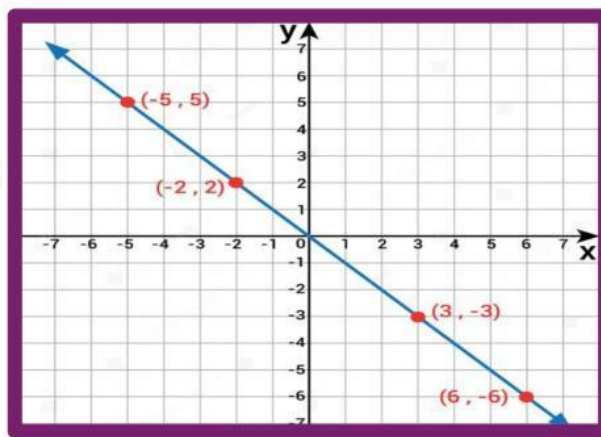
2. Indica a que tipo de función corresponde cada gráfico.

2 ptos. c/u

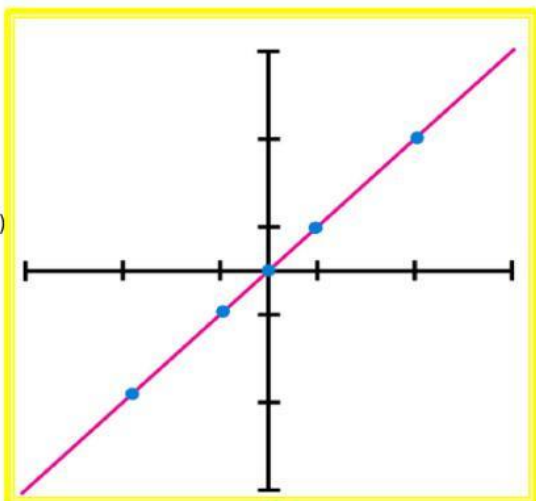
a)



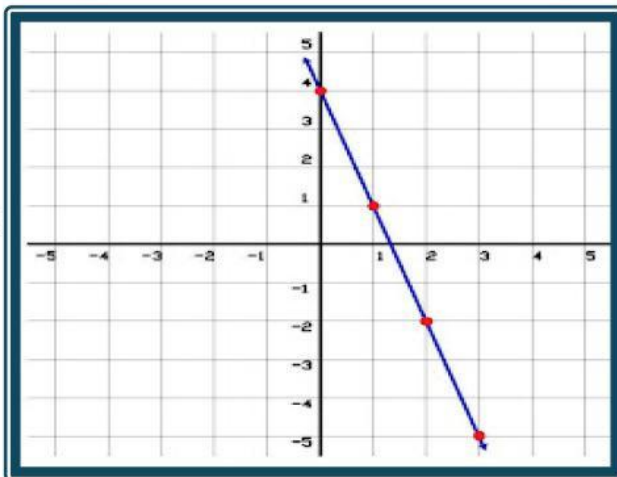
b)



c)



d)



e)

