

LKPD

SISTEM PENCERNAAN PADA MANUSIA

FASE D

KELAS VIII SMP SEMESTER 1



**VISUAL
KINESTETIK**

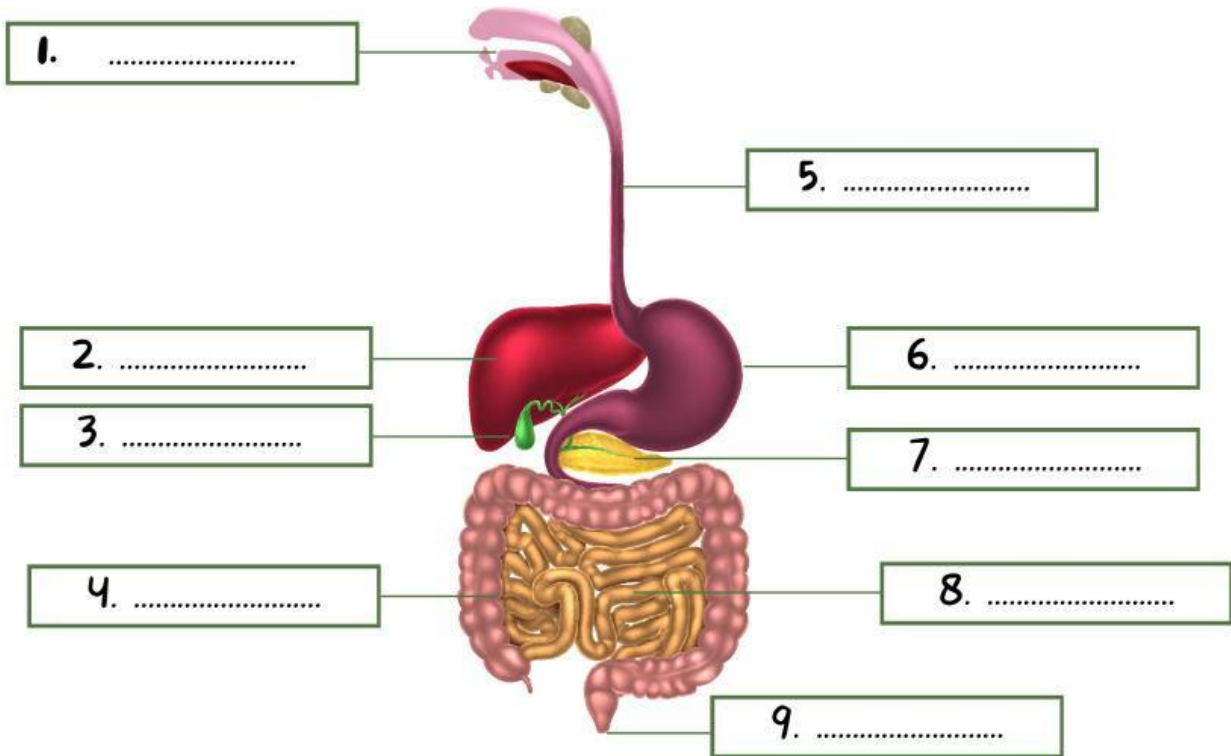
Nama Anggota Kelompok :

- | | |
|----------|----------|
| 1. _____ | 3. _____ |
| 2. _____ | 4. _____ |

SISTEM ORGAN PENCERNAAN

Petunjuk

1. Susunlah Puzzle Sistem Pencernaan Pada manusia dengan teliti sebagai bahan acuan menjawab soal dibawah ini!
2. Setelah berhasil menyusun Puzzle , lakukan studi literasi dengan menggunakan bahan ajar,
3. Kemudian Jawablah pertanyaan dibawah ini !

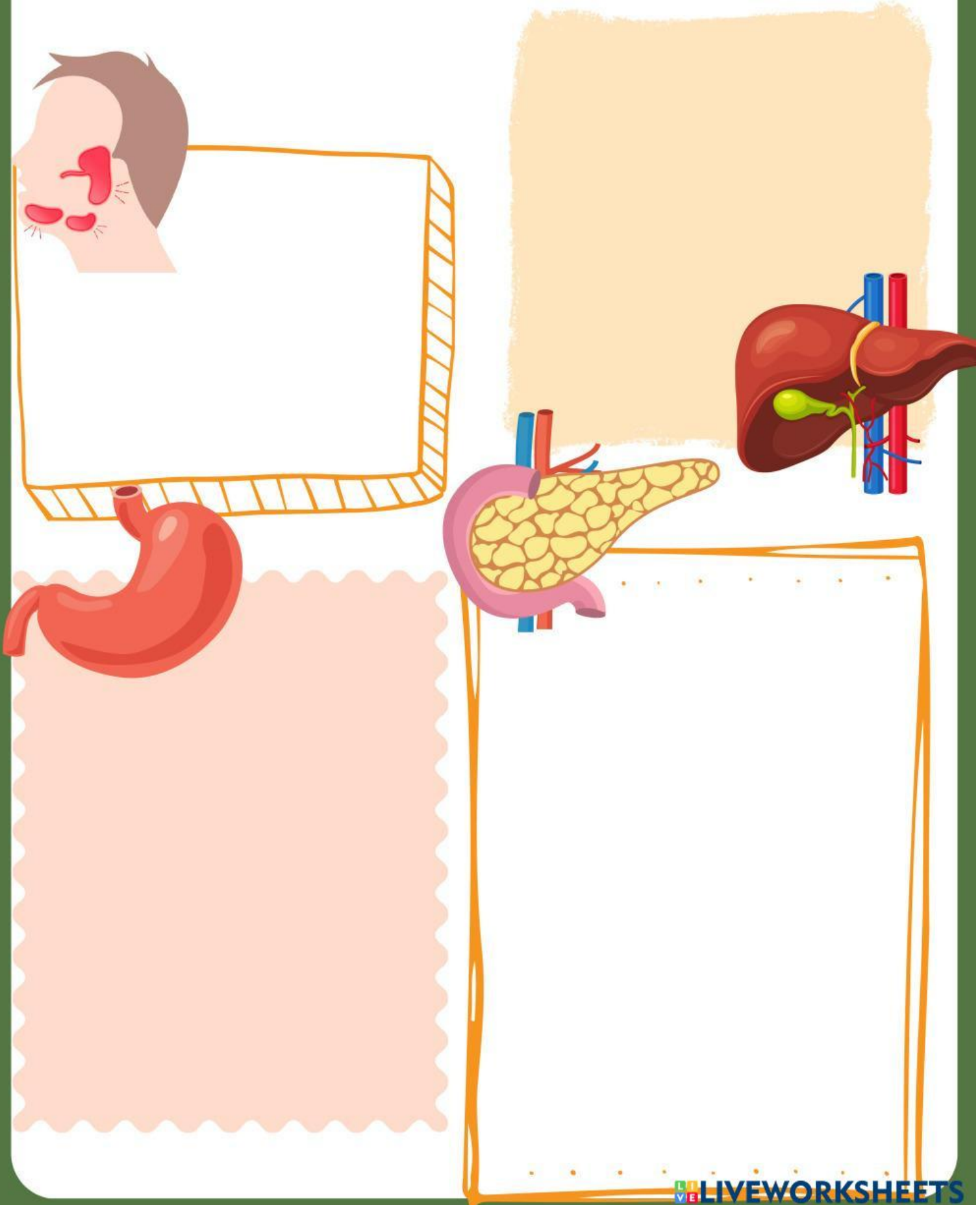


No	Nama Organ	Fungsi

Kelenjar Pencernaan

Petunjuk

1. Scan gambar pada komik sistem pencernaan menggunakan aplikasi AR Anatomi Tubuh Manusia dan lakukan studi literatur melalui bahan ajar.
2. Jawablah pertanyaan pada halaman ini dan halaman berikutnya berdasarkan informasi yang didapat dari kegiatan scanning gambar dengan menggunakan aplikasi AR dan hasil studi literatur!




Mekanisme Pencernaan

Petunjuk

Lakukan studi literatur pada bahan ajar untuk menjawab pertanyaan dibawah ini!

1. Apakah yang dimaksud dengan pencernaan mekanik?



2. Apakah yang dimaksud dengan pencernaan kimiawi?



3. Tuliskan Alur pencernaan lemak!

