

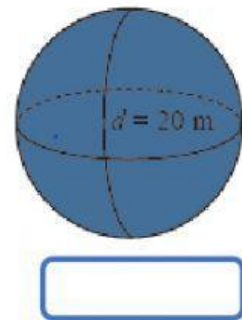
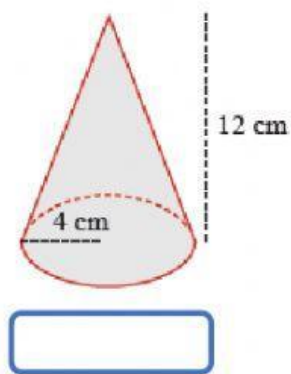
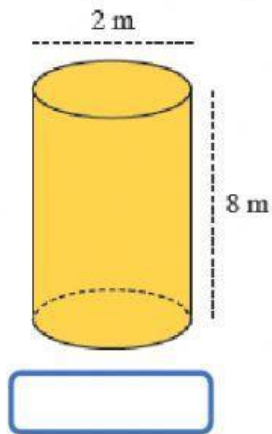
LATIHAN SOAL BANGUN RUANG SISI LENGKUNG

Nama :

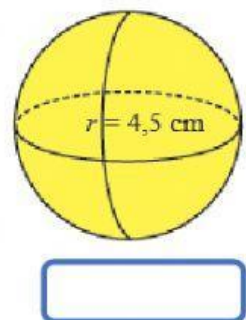
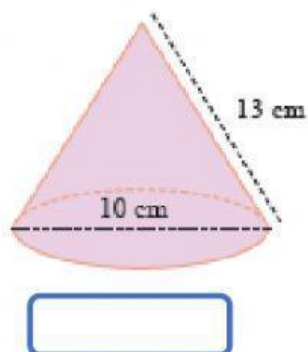
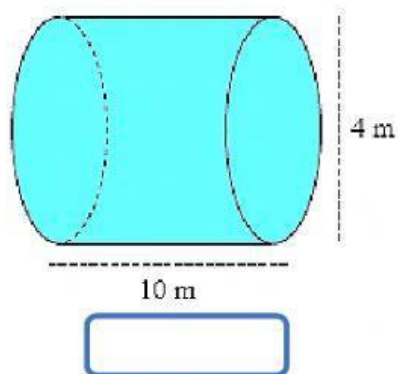
Kelas / No Presensi :

Kerjakan soal berikut dengan memilih jawaban yang paling benar!

1. Hitung volume bangun berikut!



2. Hitung luas permukaan bangun berikut!



3. Tentukan panjang dari unsur yang ditanyakan!

