











2. **Observo** los gráficos, **comparo** y **determino** con el signo respectivo si es $>$, $<$, $=$.

Fracción	Signo	Fracción
	<input type="text"/>	
	<input type="text"/>	
	<input type="text"/>	
	<input type="text"/>	
	<input type="text"/>	

3. **Comparo** cada pareja de fracciones y **escribo** mayor que ($>$), menor que ($<$) o igual ($=$) según corresponda.

Fracción	Signo	Fracción
$\frac{3}{4}$	<input type="text"/>	$\frac{3}{4}$
$\frac{8}{5}$	<input type="text"/>	$\frac{11}{5}$
$\frac{12}{7}$	<input type="text"/>	$\frac{12}{9}$
$\frac{2}{9}$	<input type="text"/>	$\frac{3}{5}$