



اسم الطالبة:

الصف:

التاريخ:

نشاط تدريبي (١)
الصف الخامس
تركيب الجذور

هدف النشاط:

أن تقارن الطالبة بين أجزاء الجذور من حيث الوظيفة .

١٠

السؤال الأول

أكمل الفراغ للعبارات التالية :

(القلنسوة - الشعيرات الجذرية - القشرة - البشرة - أوعية النقل - وتدية - هوائية) .

- ١- لجذور النباتات أنواع منها جذور ليفية و جذور.....و جذور دعامية و جذور
- ٢- من أجزاء الجذور وظيفته الدعم والحماية لجذر النبات
- ٣- من أجزاء الجذور وظيفته تخزين الغذاء
- ٤- من أجزاء الجذور وظيفته امتصاص الماء من التربة
- ٥- من أجزاء الجذور وظيفته نقل الماء من الجذور إلى الساق

السؤال الثاني : اجيبي عمايلي:

أ--صلي عمود (أ) بما يناسبه من العمود(ب):-

(ب)(أنواع الجذور)

(أ) (مثال)

١- جذور وتدية

١- البصل

٢- جذور دعامية

٢- نبات القرم

٣- جذور ليفية

٣- الأوركيدا

٤- جذور هوائية

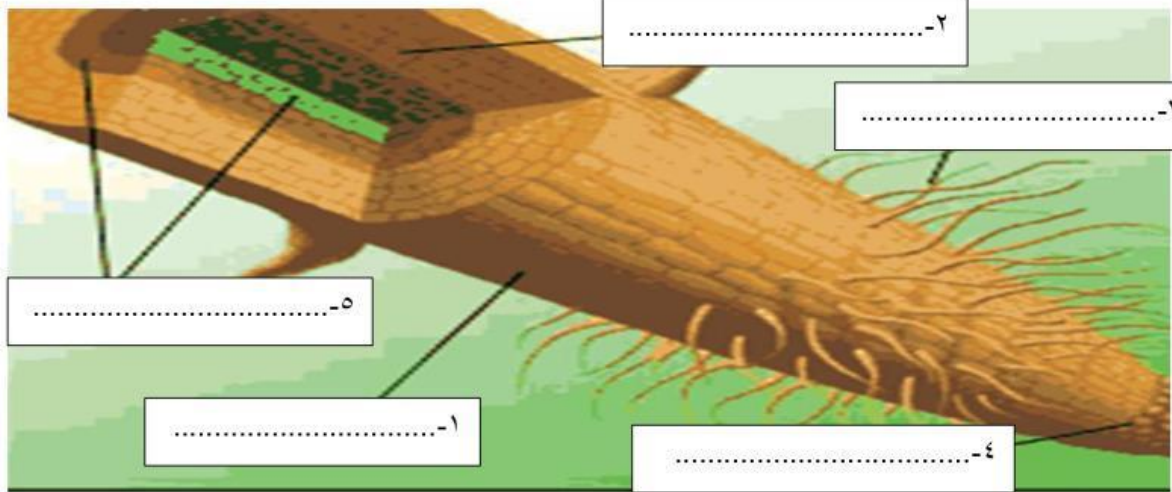
٤- سجرة الزيتون

تقييم أداء الطالبة	الوصف	التعزيز	التطوير
١٠	إتقان تام.	عمل رائع. وفقك الله	سيتم ترحيبك بأنشطة تحدي قدراتك.
٩	أقتربت من الإتقان.	أجبت. سعدت بمحاولتك.	تحتاجين إلى إعادة المحاولة لتتقني المهارة.
٨	حاولي أكثر فأنت تستطعين.	أتمنى الأفضل في المرات القادمة	سيتم ترحيبك بأنشطة علاجية.
التقدير	ممتاز	جيد	متوسط
			تحتاج إلى متابعة

مديرة المدرسة : أمريم العطوي

إعداد المعلمة الأولى : أسعاد عطية.

ب- اكتب أجزاء الجذر على الرسم :
(القلنسوة - الشعيرات الجذرية - القشرة - البشرة - أوعية النقل) .



-السؤال الثالث: (التفكير الناقد وحل المشكلات)

تميزت مملكة البحرين قديماً بزراعة النخيل ، وعلى أثر ذلك لقبّت ب (أم مليون نخلة) .

تري ما نوع الجذور النخيل ؟ فسري إجابتك .

.....

.....

.....

تاريخ التصحيح:		تقييم أداء الطلبة:	
التطوير	التعزيز	الوصف	التقدير
سيتم تزويدك بأنشطة تحدي قدراتك.	عمل رائع. وفقك الله.	إتقان تام.	✓
تحتاجين إلى إعادة المحاولة لتتقني المهارة.	أجبتك، سعدت بمحاولتك.	أقتربت من الإتقان.	✓
سيتم تزويدك بأنشطة إضافية.	أتمنى الأفضل في المرات القادمة	حاولي أكثر فأنت تستطعين.	✓
تحتاج إلى متابعة	متوسط	ممتاز	✓

مديرة المدرسة : أمريم العطوي

إعداد المعلمة الأولى : أسعاد عطية.

اسم الطالبة:

الصف:

التاريخ:

نشاط تدريبي (١)
الصف الخامس
أوراق النبات

هدف النشاط:

أن تقارن الطالبة بين أجزاء ورقة النبات من حيث الوظيفة .

السؤال الأول

أكمل الفراغ للعبارات التالية :

(البشرة - خلايا خارسه - خلايا خشب - خلايا اللحاء - ثغر - العرق - الطبقة الشمعية) .

١- (.....) تمنع تبخر الماء من سطح الورقة .

٢- (.....) موجود في الجزء السفلي الورقة النبات يخرج منه الماء والغازات الزائدة .

٣- (.....) وظيفتها غلق الثغور في الأجواء الساخنة لكي لا يتبخر الماء.

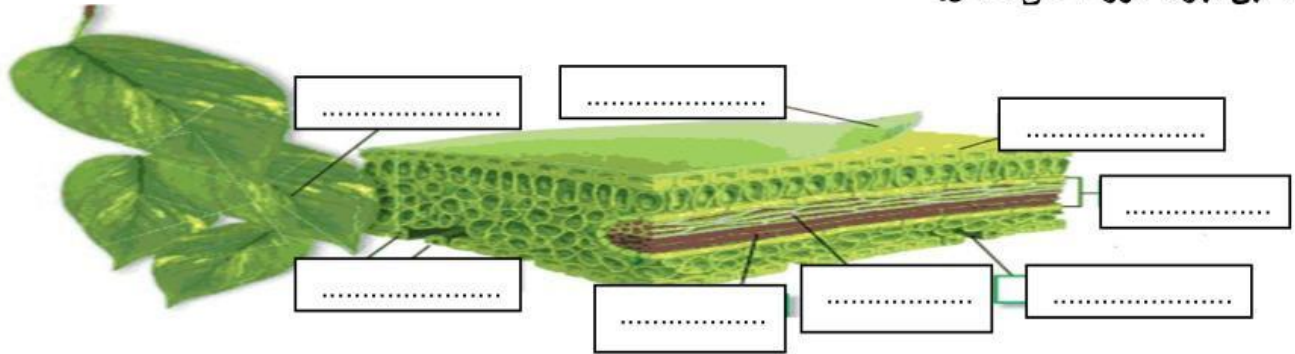
٤- (.....) نقل الماء إلى أجزاء الورقة .

٥- (.....) نقل السكر إلى أجزاء الورقة.

٦- (.....) تحدث فيها عملية البناء الضوء لوجود البلاستيدات الخضراء.

السؤال الثاني:

اكتب أجزاء الورقة على الشكل.



تاريخ التصحيح:	تقييم أداء الطالبة	
التطوير	التعزيز	الوصف
سيتم ترحيبك بأنشطة تحدي قدراتك. تحتاجين إلى إعادة المحاولة لتتقني المهارة. سيتم ترحيبك بأنشطة عابرة.	عمل رائع. وفقك الله. أجبتك، سعدت بمحاولتك. أتمنى الأفضل في المرات القادمة	إتقان تام. أقتربت من الإتقان. حاولي أكثر فأنت تستطعين.
تحتاج إلى متابعة	متوسط	ممتاز
	جيد	التقدير

مديرة المدرسة : أمريم العطاوي

إعداد المعلمة الأولى : أسعاد عطية.

اسم الطالبة:
الصف:
التاريخ:

نشاط تدريبي (١)
الصف الخامس
ساق النبات

هدف النشاط :
أن تقارن الطالبة بين أجزاء ساق النبات
من حيث الوظيفة .

السؤال الأول

أ- أكمل الفراغ للعبارات التالية :

(الكامبيوم - خلايا اللحاء - خلايا خشب - ساق خشبة - ساق لينة) .

١- : نقل الماء والملاح في اتجاه واحد فقط من الجذور إلى الأوراق.

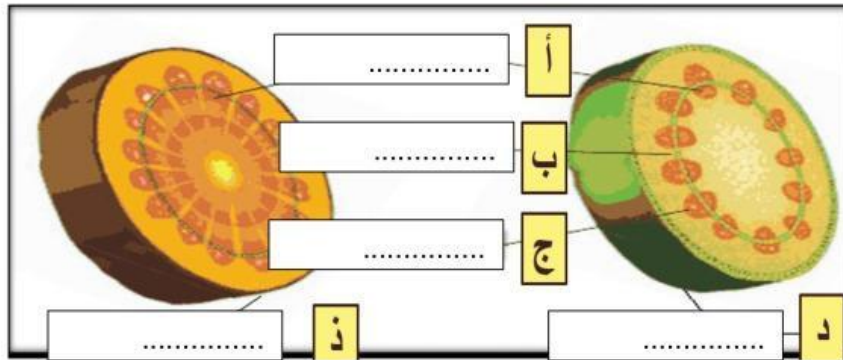
٢- : ينقل السكر من الوراق إلى أجزاء النبات عبر اتجاهين من الأوراق إلى الجذور ومن الجذور إلى الأوراق.

٣- : إنتاج خلايا جديدة من الخشب واللحاء.

٤- : من أنواع سوق النبات لونها أخضر لوجود مادة اليخضور ، وسهلة الكسر.

٤- : من أنواع سوق النبات لونها بني ، لا تكسر بسهولة.

ب- أكتب أجزاء الساق على الشكل.



تاريخ التصحيح:	تقييم أداء الطالبة	الوصف	التعزيز	التطوير
	١٠	إتقان تام. أقتربت من الإتقان. حاولت أكثر فأنت تستطعين.	عمل رائع. وفقك الله. أجبت، سعدت بمحاولتك. أتمنى الأفضل في المرات القادمة	سيتم ترحيبك بأنشطة تحدي قدراتك. تحتاجين إلى إعادة المحاولة لتتقني المعارة. سيتم ترحيبك بأنشطة علاجية.
		ممتاز	جيد	متوسط
		تحتاج إلى متابعة		

مديرة المدرسة : أمريم العطاوي

إعداد المعلمة الأولى : أسعاد عطية.