


Nama:

Kelas:

## Perubahan Energi

Tuliskan perubahan energi yang terjadi pada benda di bawah ini.





# BENTUK ENERGI



Pasangkanlah benda-benda dengan energi yang dihasilkan!

Gitar



Kompore



Makanan



Energi  
Panas


Energi  
Cahaya

Energi  
Gerak

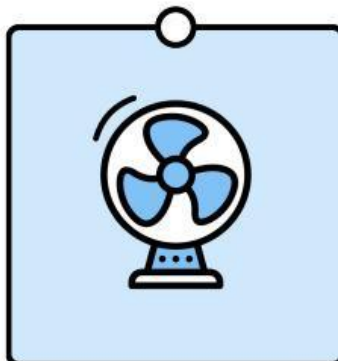
Energi  
Kimia

Energi  
Bunyi


Energi  
Listrik




Senter



Kipas Angin



Stop Kontak



### Down

1. alat ulur dari massa
2. yang memiliki satuan pascal adalah besaran
3. yang memiliki satuan newton adalah besaran
6. satuan dari besaran suhu

### Across

4. lambang dari " t " adalah untuk besaran
5. salah satu alat ukur panjang
7. salah satu besaran turunan
8. satuan dari intensitas cahaya

Powered by  Interacty

# ENERGI

Cari kata yang berkaitan dengan energi berikut ini!

J	K	M	P	A	D	L	O	P	E
K	A	L	O	R	L	I	T	O	P
P	O	T	E	R	P	S	I	A	L
B	W	K	I	N	E	T	I	K	A
J	A	N	U	T	R	R	S	I	N
O	N	A	S	D	S	I	Y	W	T
U	N	N	E	N	U	K	L	I	R
L	K	O	N	S	U	M	E	A	I
E	G	O	Q	T	N	M	U	P	I