


Yuks Praktik 1



Geserlah satu siswi dibawah ini ke siswi yang ada di sudut tongkat menjadi FORMASI SUDUT BERTOLAK BELAKANG



Geserlah satu siswa dibawah ini ke siswa yang ada di sudut tongkat menjadi formasi SUDUT BERPELURUS



Yuks Praktik 2




Geserlah satu siswi dibawah ini ke siswi yang ada di sudut tongkat menjadi Formasi SUDUT SEHADAP



Geserlah satu siswa dibawah ini ke siswa yang ada di sudut tongkat menjadi formasi SUDUT LUAR BERSEBERANGAN



Yuks Praktik 3



Geserlah satu siswi dibawah ini ke siswi yang ada di sudut tongkat menjadi FORMASI SUDUT LUAR SEPIHAK




Geserlah satu siswa dibawah ini ke siswa yang ada di sudut tongkat menjadi formasi SUDUT DALAM SEPIHAK



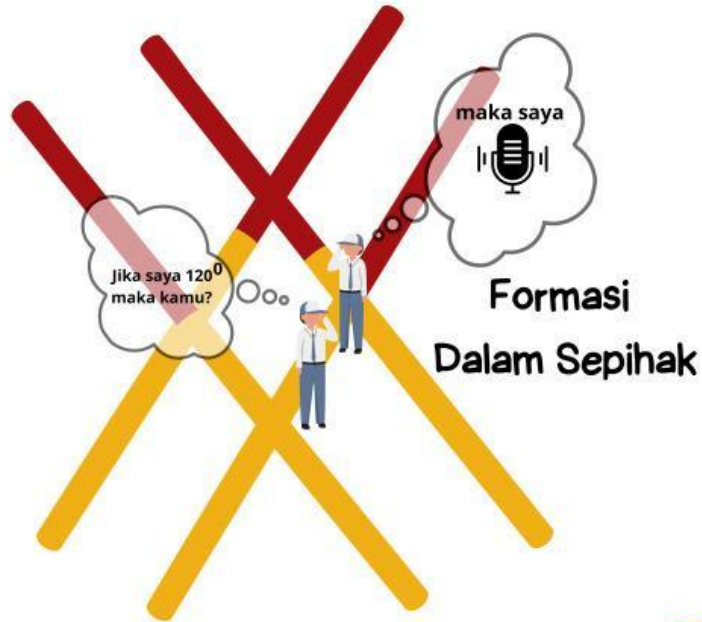
Yuks Praktik 4

Geserlah satu siswi dibawah ini ke siswi yang ada di sudut tongkat menjadi Formasi SUDUT DALAM BERSEBERANGAN



Yuks Praktik 5

Sebutkan besar sudut yang ditanyakan



Yuks Praktik 6

Sebutkan besar sudut yang ditanyakan

Formasi
Berpelurus

0

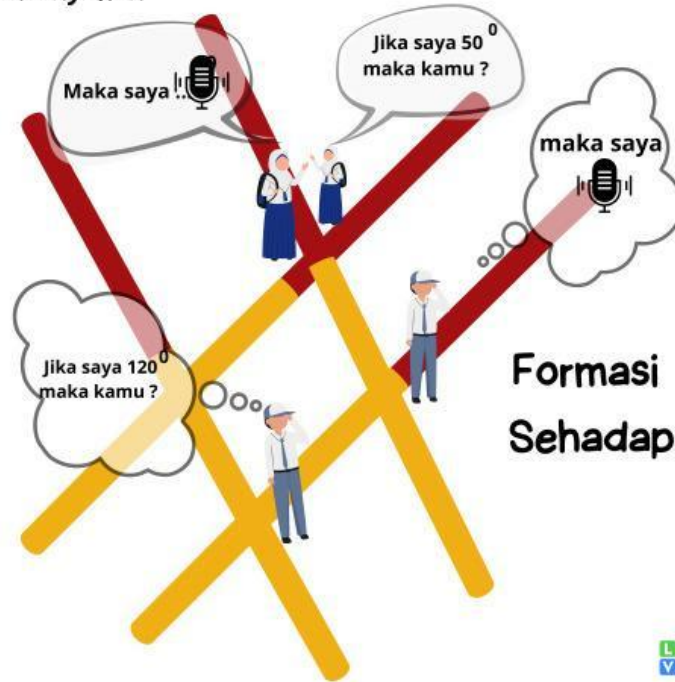


Yuks Praktik 7

Formasi Bertolak Belakang

Sebutkan besar sudut yang ditanyakan

0

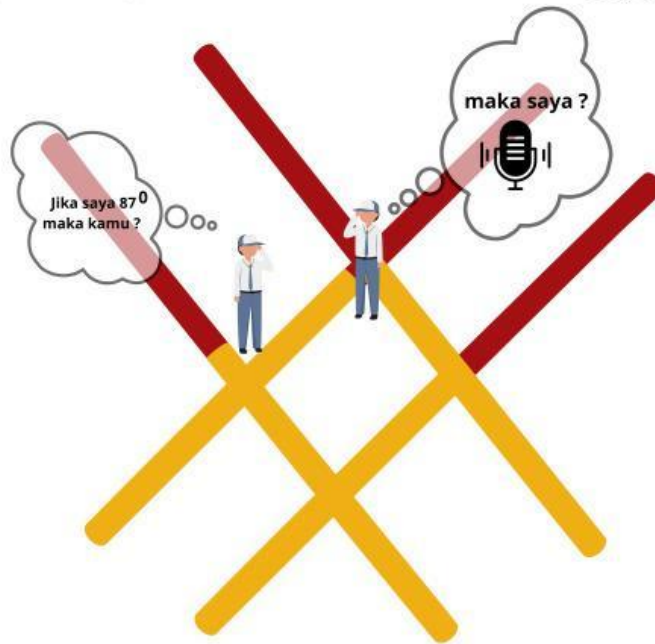


Yuks Praktik 8

Sebutkan besar sudut yang ditanyakan

Formasi

Sudut Dalam Berseberangan



Yuks Praktik 9

Sebutkan besar sudut yang ditanyakan

Formasi

Sudut Luar Berseberangan

