



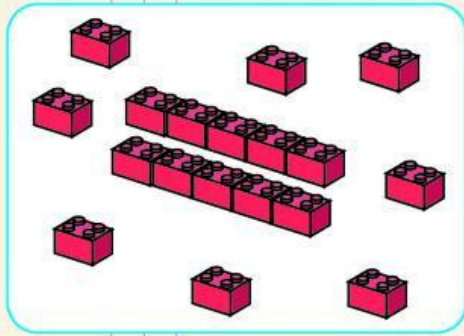
www.business.com.bo/
p1ma1u3ev



EVALUACIÓN

DINÁMICA

1. ¿Cuál es el número anterior al número de piezas?
Rodea la respuesta correcta.



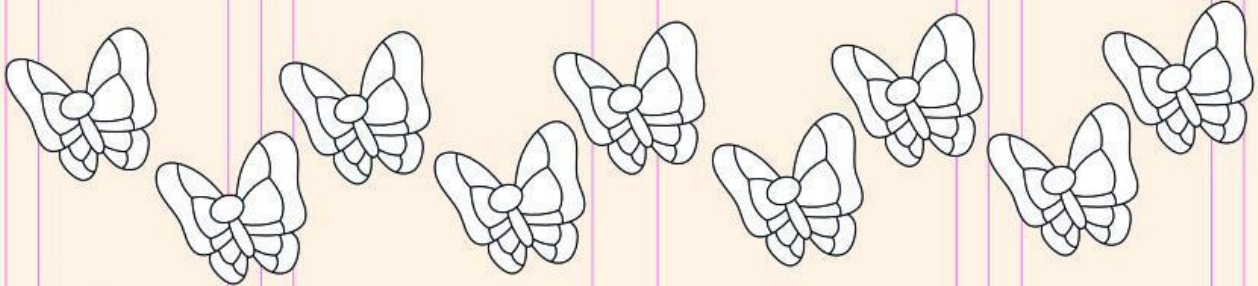
18

Diecisiete

19

Dieciocho

2. Colorea algunas mariposas



3. Resuelve el siguiente ejercicio:

$$\begin{array}{r} 5 \\ + 2 \\ \hline \end{array}$$

$$\begin{array}{r} 3 \\ + 2 \\ \hline \end{array}$$


$$\begin{array}{r} 8 \\ + 1 \\ \hline \end{array}$$

$$\begin{array}{r} 7 \\ + 3 \\ \hline \end{array}$$

4. ¿Cuál es el resultado de estas restas? Rodea la respuesta correcta.



6
7
8



4
3
5





DINÁMICA MENTE



1. Observa dinámicamente y colorea según se indica.

Todos los triángulos son de color rojo.
No todos los cuadrados son de color amarillo.
Todos los círculos no son de color verde.

