

La France – les régions et les villes

Fiche de travail - 7^{ème} année

Observe la carte (mapa).



1. Complète.

Paris se situe dans la région _____

Informations :









Actuellement, la France a 13 régions ; chacune a une capitale régionale. La France a aussi 5 régions d'Outre-mer.

(Atualmente a França tem 13 regiões; cada uma tem uma capital regional. A França tem ainda 5 regiões de ultramar.)

2. Relie correctement.

- | | |
|------------------------|-------------|
| A. Bretagne | 1. Bordeaux |
| B. Corse | 2. Toulouse |
| C. Pays de la Loire | 3. Ajaccio |
| D. Normandie | 4. Rennes |
| E. Nouvelle- Aquitaine | 5. Rouen |
| F. Occitanie | 6. Nantes |

3. Observe la carte de France et associe correctement.

Dijon	Bordeaux	Marseille	Paris	Rennes	Rouen	Toulouse
 Strasbourg	 B	 C	 D			
 E	 F	 G	 H			

4. Place correctement le nom des régions d'Outre-mer.

La Guadeloupe		La Guyane Française		La Réunion	
La Martinique		Mayotte			
					
a)	b)	c)	d)	e)	

5. Associe les villes aux régions de France.

1. Ajaccio
2. Bordeaux
3. Dijon
4. Lille
5. Lyon
6. Marseille
7. Nantes
8. Orléans
9. Paris
10. Rennes
11. Rouen
12. Strasbourg
13. Toulouse



6. Découvre 12 villes de France et écris les noms.



1. A _ _ _ _ _

3. B _ _ _ _ _

5. C _ _ _ _ _

7. D _ _ _ _ _

9. L _ _ _ _ _

11. L _ _ _ _

2. M _ _ _ _ _

4. N _ _ _ _ _

6. P _ _ _ _ _

8. R _ _ _ _ _

10. S _ _ _ _ _

12. T _ _ _ _ _

