

SEKOLAH DASAR

KELAS 2

LEMBAR KERJA PESERTA DIDIK

BENTUK DI
SEKITAR KITA



Nama : _____

Kelas : _____

BENDA BANGUN DATAR

Jawablah pertanyaan di bawah ini dengan melingkari pada jawaban yang benar!

Benda di bawah ini yang termasuk bangun datar persegi adalah?

a



b



c



Benda di bawah ini yang termasuk bangun datar segitiga adalah?

a



b



c



Benda di bawah ini yang termasuk bangun datar layang-layang adalah?

a



b



c



Benda di bawah ini yang termasuk bangun datar persegi panjang adalah?

a



b



c



Benda di bawah ini yang termasuk bangun datar lingkaran adalah?

a



b

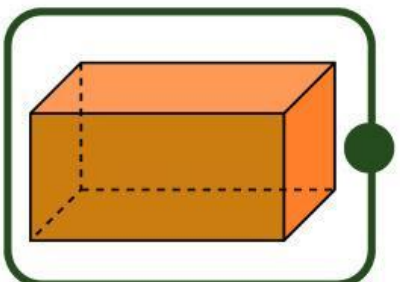
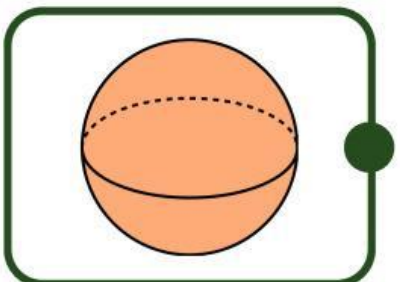
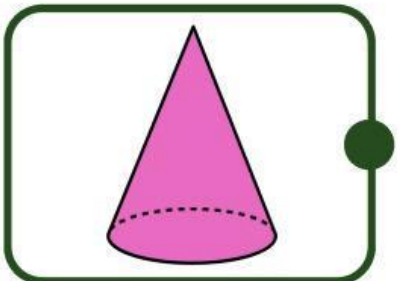
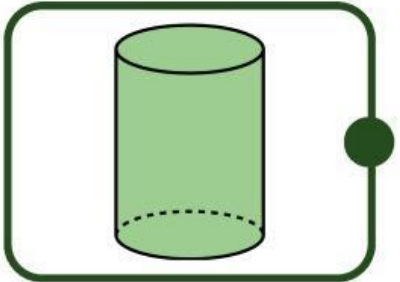
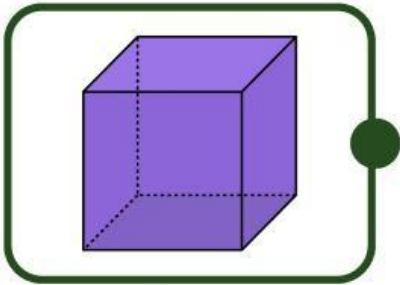


c



Mengenal Bangun Ruang

Berilah nama pada setiap bangun ruang berikut!



LEMBAR KERJA

BELAJAR MENGELOMPOKKAN BENDA SESUAI DENGAN BENTUK BANGUN RUANG

Lihat gambar bangun ruang di bawah ini. Kemudian kelompokkan benda sesuai dengan bentuk bangun ruangnya.



Permukaan Datar

Permukaan Lengkung

Menguraikan Bangun Datar

Urai bangun datar berikut, tarik garis dan bangun datar dengan hasil uraiannya.



Menyusun Bangun Datar

TARIK GARIS SESUAI DENGAN HASIL SUSUNANNYA!

Bangun datar

Hasil Susunan

