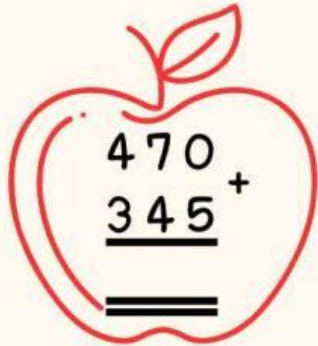
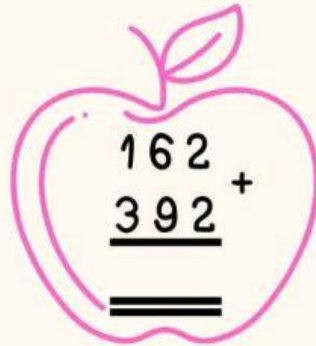




ใบงานเรื่อง การบวก

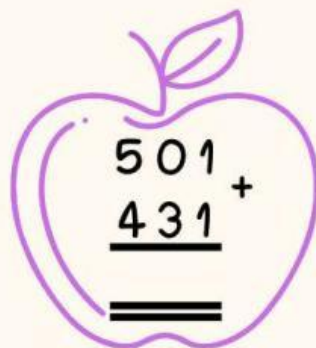
จงหาผลลัพธ์ของการบวกต่อไปนี้



$$\begin{array}{r} 470 \\ + 345 \\ \hline \\ \hline \end{array}$$



$$\begin{array}{r} 162 \\ + 392 \\ \hline \\ \hline \end{array}$$



$$\begin{array}{r} 628 \\ + 339 \\ \hline \\ \hline \end{array}$$



$$\begin{array}{r} 207 \\ + 418 \\ \hline \\ \hline \end{array}$$



$$\begin{array}{r} 501 \\ + 431 \\ \hline \\ \hline \end{array}$$


$$\begin{array}{r} 334 \\ + 466 \\ \hline \\ \hline \end{array}$$


$$\begin{array}{r} 562 \\ + 190 \\ \hline \\ \hline \end{array}$$


$$\begin{array}{r} 657 \\ + 129 \\ \hline \\ \hline \end{array}$$


$$\begin{array}{r} 657 \\ + 113 \\ \hline \\ \hline \end{array}$$


$$\begin{array}{r} 220 \\ + 688 \\ \hline \\ \hline \end{array}$$

ชื่อ..... ชั้น..... เลขที่.....

ใบงานเรื่อง การบวก

จงเขียนจำนวนในรูปกระจายและหาผลบวก

ตัวอย่าง

$$\begin{array}{r} 128 \\ + \\ \hline 241 \end{array} = \begin{array}{r} 100 + 20 + 8 \\ + \\ \hline 200 + 40 + 1 \\ + \\ \hline 300 + 60 + 9 \end{array} = 369$$

1)
$$\begin{array}{r} 314 \\ + \\ \hline 623 \end{array} = \begin{array}{r} \dots\dots + \dots\dots + \dots\dots \\ + \\ \hline \dots\dots + \dots\dots + \dots\dots \\ + \\ \hline \dots\dots + \dots\dots + \dots\dots = \dots\dots \end{array}$$

2)
$$\begin{array}{r} 703 \\ + \\ \hline 251 \end{array} = \begin{array}{r} \dots\dots + \dots\dots + \dots\dots \\ + \\ \hline \dots\dots + \dots\dots + \dots\dots \\ + \\ \hline \dots\dots + \dots\dots + \dots\dots = \dots\dots \end{array}$$

ชื่อ..... ชั้น..... เลขที่.....

ใบงานเรื่อง การบวก

ให้นักเรียนเลือกคำตอบที่ถูกต้องเพียงข้อเดียว

1) $\square + 351 = 888$ จำนวนใน \square คือจำนวนใด

ก. 537

ข. 457

ค. 399

2) $155 + 432 = \square + 155$ จำนวนใน \square คือจำนวนใด

ก. 587

ข. 432

ค. 277

3) $\square + 364 = 364 + 412$ จำนวนใน \square คือจำนวนใด

ก. 412

ข. 742

ค. 978

4) $112 + 255$ \square $130 + 255$ ควรเติมเครื่องหมายใด
ลงใน \square

ก. >

ข. <

ค. =

ชื่อ..... ชั้น..... เลขที่.....

ใบงานเรื่อง การบวก

ให้นักเรียนเลือกคำตอบที่ถูกต้องเพียงข้อเดียว

976

626

689

974

985



$$435 + 254 =$$

$$361 + 613 =$$



$$500 + 476 =$$

$$424 + 202 =$$




$$673 + 312 =$$

ชื่อ..... ชั้น..... เลขที่.....

ใบงานเรื่อง การบวก

ให้ห้คำตอบจับคู่โจทย์กับผลลัพธ์



ชื่อ..... ชั้น..... เลขที่.....