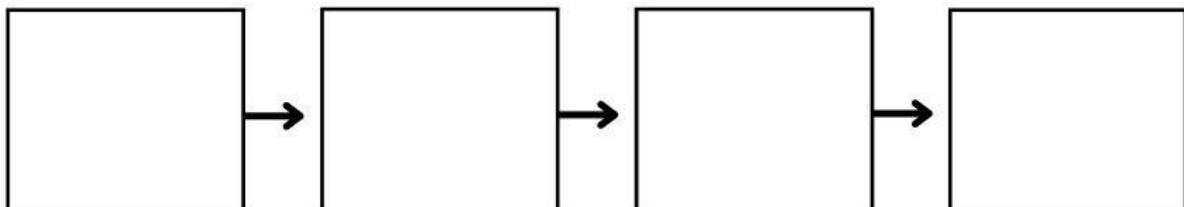
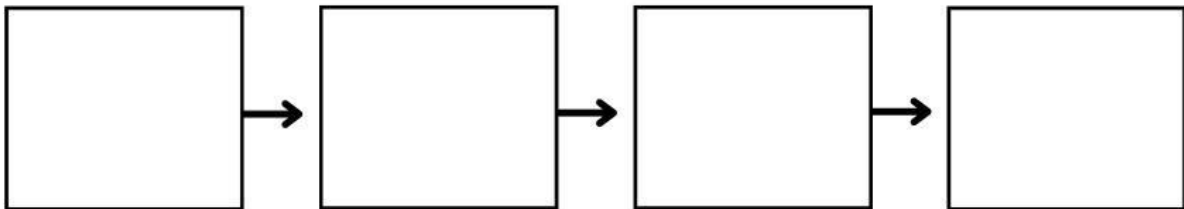
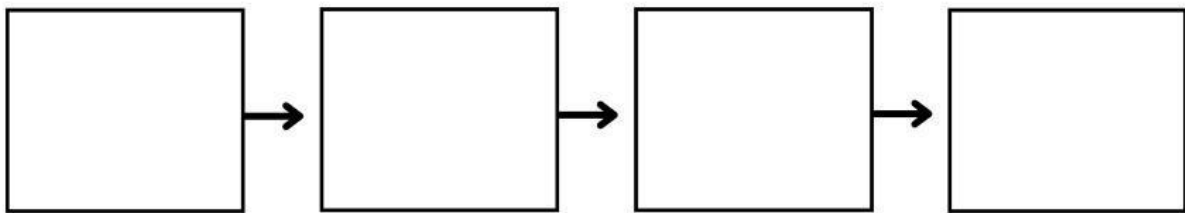


Nama :

Tanggal :

RANTAI MAKANAN

Urutkanlah rantai makanan di bawah ini dengan tepat!



Nama :

Tanggal :

RANTAI MAKANAN

Pasangkan pengertian berikut dengan tepat!

Organisme yang memecah bahan organik mati menjadi zat yang lebih sederhana, seperti mineral dan nutrisi.

Konsumen

Organisme yang dapat memproduksi makanannya sendiri.

Produsen

Organisme yang bergantung pada produsen atau organisme lain untuk mendapatkan energi.

Dekomposer



Nama:

Kelas:

RANTAI MAKANAN

Amatilah gambar rantai makanan berikut dan letakkanlah kotak pada posisi yang tepat!

Produsen

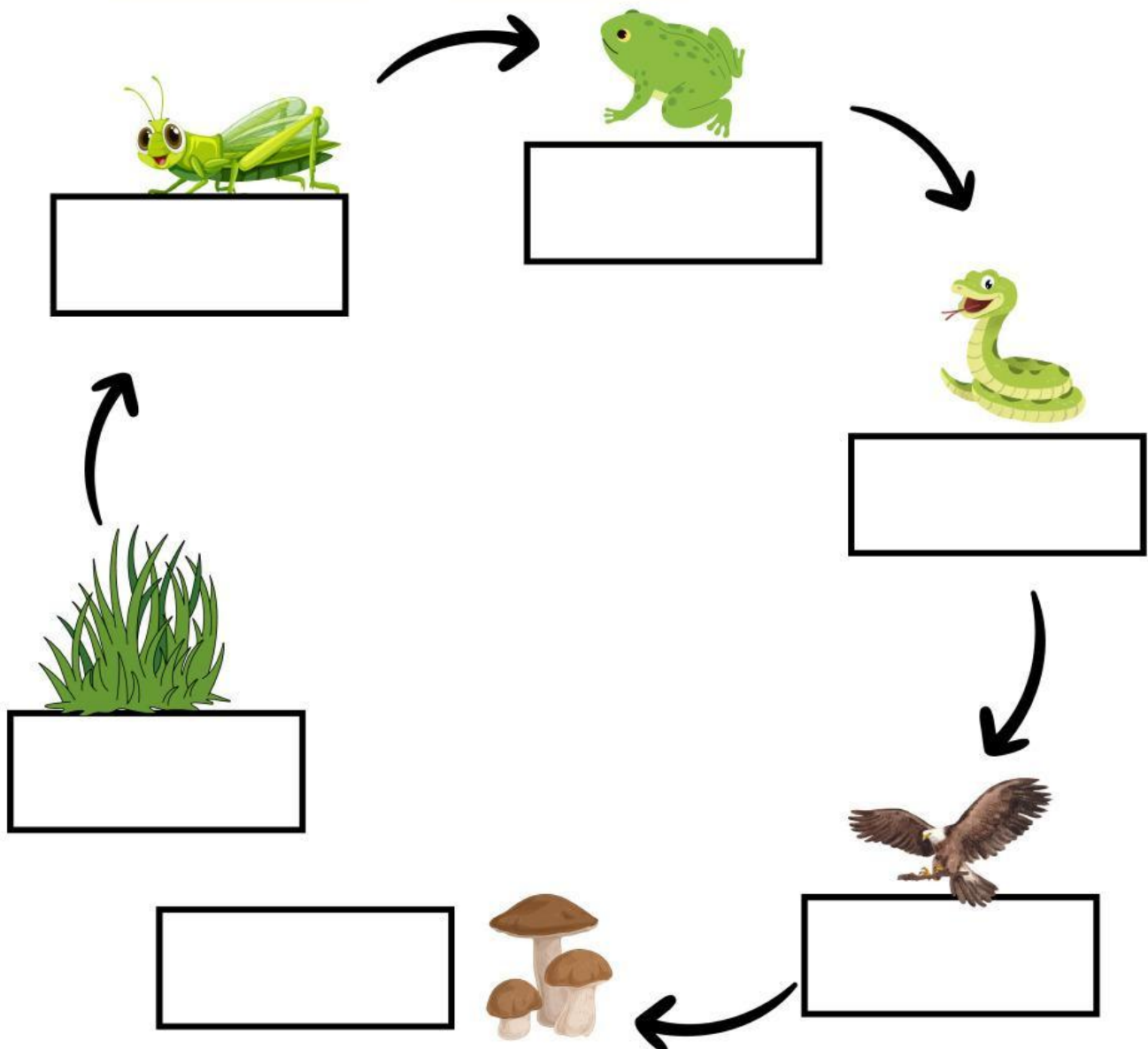
Konsumen
Primer

Konsumen
Sekunder

Konsumen
Tersier

Konsumen
Final

Dekomposer



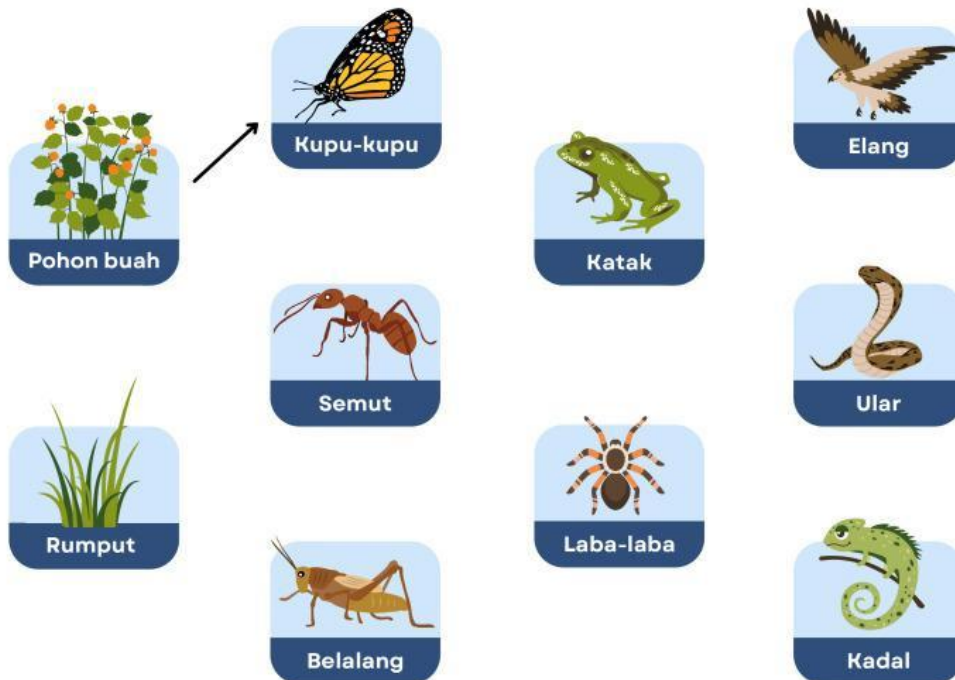
Nama: _____

Kelas: _____

JARING-JARING MAKANAN

A

Berilah tanda panah sesuai urutan proses memakan dan dimakan antar makhluk hidup pada jaring-jaring makanan di bawah ini!



B

Lengkapilah tabel di bawah ini sesuai dengan jaring-jaring makanan di atas! Satu makhluk hidup dapat memiliki peran lebih dari satu.

| No | Makhluk Hidup | Peran dalam jaring-jaring makanan |
|----|---------------|-----------------------------------|
| 1 | Kupu-kupu | Konsumen tingkat 1 |
| 2 | Katak | |
| 3 | Elang | |
| 4 | Pohon buah | |
| 5 | Kadal | |
| 6 | Ular | |