



ข้อสอบปลายปี ภาคเรียนที่ 1/2567 ชั้นมัธยมศึกษาปีที่ 2 โรงเรียนนาสาร  
วิชาคอมพิวเตอร์เพิ่มเติม กลุ่มสาระการเรียนรู้วิทยาศาสตร์และเทคโนโลยี  
จำนวน 30 ข้อ

1. องค์ประกอบพื้นฐานของการออกแบบ ใดสิ่งที่ไม่กำหนด Mood and Tone ของรูป

ก. พื้นผิว (texture)  
ข. สี (Color)  
ค. พื้นที่ในงาน (SPACE)  
ง. ขนาดต่างๆ (SCALE)

2. จากรูปใช้ องค์ประกอบพื้นฐานของการออกแบบ ในข้อใด

ก. พื้นผิว (texture)  
ข. สี (Color)  
ค. พื้นที่ในงาน (SPACE)  
ง. ขนาดต่างๆ (SCALE)



3. จากรูปใช้ องค์ประกอบพื้นฐานของการออกแบบ ในข้อใด

ก. พื้นผิว (texture)  
ข. สี (Color)  
ค. พื้นที่ในงาน (SPACE)  
ง. ขนาดต่างๆ (SCALE)



4. ข้อใดไม่ใช่ขององค์ประกอบพื้นฐานของการออกแบบ

ก. พื้นผิว (texture)  
ข. สี (Color)  
ค. เงา (shadow)  
ง. รูปร่างต่างๆ (Shape)

5. จากรูปใช้ องค์ประกอบพื้นฐานของการออกแบบ ในข้อใด

ก. พื้นผิว (texture)  
ข. สี (Color)  
ค. องค์ประกอบหลักและรอง (DOMINANCE AND EMPHASIS)  
ง. ขนาดต่างๆ (SCALE)



6. จากรูปขาด องค์ประกอบพื้นฐานของการออกแบบในข้อใด

ก. เส้นในการออกแบบ (LINES)  
ข. สี (Color)  
ค. องค์ประกอบหลักและรอง (DOMINANCE AND EMPHASIS)  
ง. สมดุล (BALANCE)



7. สีหลัก (Primary) หรือ สีขั้นที่ 1 มีสีอะไรบ้าง

ก. สีแดง สีนํ้าเงิน สีเหลือง  
ข. สีเหลือง สีม่วง สีเขียว  
ค. สีขาว สีดำ สีแดง  
ง. สีขาว สีแดง สีนํ้าเงิน

8. ข้อใดไม่ใช่สีที่อยู่ในวรรณะร้อน (Warm Tone)

ก. สีแดง  
ข. สีเหลือง  
ค. สีส้ม  
ง. สีนํ้าเงิน

9. ข้อใดไม่ใช่สีที่อยู่ในวรรณะเย็น (Cool Tone)

- ก. สีเขียว
- ข. สีเหลือง
- ค. สีน้ำเงิน
- ง. สีน้ำส้ม

10. ข้อใดอยู่ทั้ง 2 วรรณะ

- ก. สีเขียวและสีม่วง
- ข. สีเหลืองและสีม่วง
- ค. สีน้ำเงินและสีม่วง
- ง. สีน้ำส้มและสีม่วง

11. ข้อใด ไม่ใช่สีคู่ตรงข้าม



ก.



ข.



ค.



ง.

12. โปรแกรม Microsoft PowerPoint 2016 เป็น

โปรแกรมทำงานประเภทใด

- ก. โปรแกรมประมวลผลคำที่ใช้ในการพิมพ์เอกสารต่าง ๆ
- ข. โปรแกรมสำหรับสร้างแผ่นงาน ตาราง กราฟ และการคำนวณ
- ค. โปรแกรมนำเสนอผลงาน
- ง. ถูกทั้ง ข และ ค

13. ข้อใดกล่าวถึงประโยชน์ของโปรแกรม Microsoft PowerPoint ได้ถูกต้องที่สุด

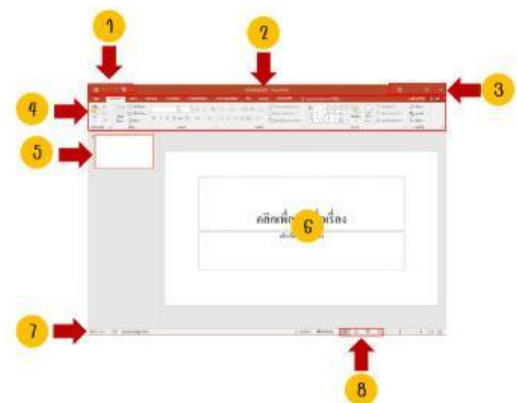
- ก. เป็นโปรแกรมประมวลผลคำ ช่วยให้สร้างเอกสารแบบมีอาชีพอ่างมีประสิทธิภาพ
- ข. เป็นโปรแกรมที่ช่วยในการสร้างสรรค์งานที่ใช้ในการนำเสนอผลงาน
- ค. เป็นโปรแกรมสร้างตาราง ในรูปแบบต่างๆ ได้หลายรูปแบบมีความถูกต้องแม่นยำสูงมาก
- ง. เป็นโปรแกรมตกแต่งงานกราฟิก สามารถใช้ตกแต่งรูปภาพ และใช้วาดรูป

14. มุมมองที่ใช้สำหรับแสดงงานนำเสนอให้กับผู้ชม ?

- ก. มุมมองปกติ(Normal View)
- ข. มุมมองเรียงลำดับภาพนิ่ง (Slide Sorter View)
- ค. มุมมองการนำเสนอภาพนิ่ง (Slide Show)
- ง. มุมมองเค้าร่าง(Outline)

15. ข้อใดคือหน้าที่ของแถบริบบอน

- ก. เป็นศูนย์รวมคำสั่งต่าง ๆ
- ข. แสดงชื่อไฟล์การทำงาน
- ค. แสดงรายละเอียดของงานนำเสนอ
- ง. แสดงตัวอย่างสไลด์เป็นรูปขนาดเล็ก



16. หมายเลข 1 คือคำสั่งใด

- ก. แถบเครื่องมือ Quick Access Toolbar
- ข. แถบชื่อเรื่อง (Title bar)
- ค. ตัวควบคุมหน้าต่าง (Program Window Control)
- ง. ริบบอน (Ribbon)



17. หมายเลข 2 คือคำสั่งใด

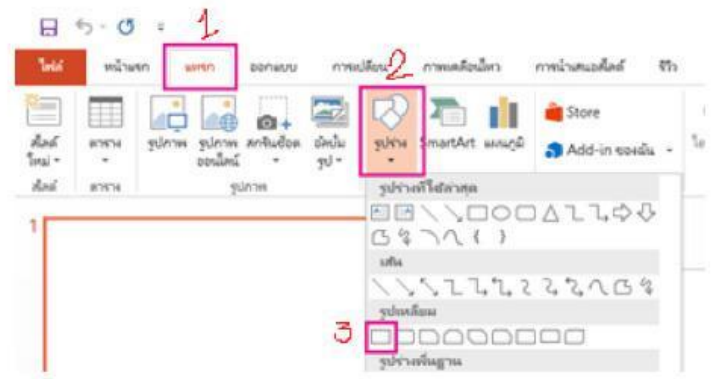
- ก. แถบเครื่องมือ Quick Access Toolbar
- ข. แถบชื่อเรื่อง (Title bar)
- ค. ตัวควบคุมหน้าต่าง (Program Window Control)
- ง. ริบบอน (Ribbon)

22. จากรูปคือหน้าต่างของคำสั่งใด

- ก. เมนูไฟล์ (File)
- ข. หน้าแรก (Home)
- ค. แทรก (Insert)
- ง. หน้าการเปลี่ยน (Transitions)

18. หมายเลข 3 คือคำสั่งใด

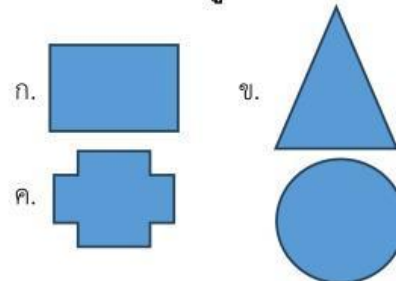
- ก. แถบเครื่องมือ Quick Access Toolbar
- ข. แถบชื่อเรื่อง (Title bar)
- ค. ตัวควบคุมหน้าต่าง (Program Window Control)
- ง. ริบบอน (Ribbon)



19. หมายเลข 4 คือคำสั่งใด

- ก. แถบเครื่องมือ Quick Access Toolbar
- ข. แถบชื่อเรื่อง (Title bar)
- ค. ตัวควบคุมหน้าต่าง (Program Window Control)
- ง. ริบบอน (Ribbon)

23. ขั้นตอนตามรูปจะได้ผลลัพธ์ตามข้อใด



20. หมายเลข 5 คือคำสั่งใด

- ก. แถบนำทาง (Navigation Page)
- ข. พื้นที่สไลด์ (Slide Pane)
- ค. แถบสถานะ (Status Bar)
- ง. แถบมุมมองสไลด์ (View Shortcuts)

24. ถ้าต้องการแก้ไขรูปร่าง ต้องเลือกคำสั่งใด

- ก. แถบนำทาง (Navigation Page)
  - ข. พื้นที่สไลด์ (Slide Pane)
  - ค. แถบสถานะ (Status Bar)
  - ง. แถบมุมมองสไลด์ (View Shortcuts)
- ก. แก้ไขจุด
  - ข. แก้ไขข้อความ
  - ค. เปลี่ยนรูปร่าง
  - ง. แก้ไขภาพ

25. จากรูปเป็นการผสมแบบใด

- ก. Union
- ข. Combine
- ค. Fragment
- ง. Intersect



26. จากรูปเป็นการผสมแบบใด

- ก. Union
- ข. Combine
- ค. Fragment
- ง. Intersect



27. จากรูปเป็นการผสมแบบใด

- ก. Union
- ข. Combine
- ค. Fragment
- ง. Intersect



28. จากรูปคือหน้าต่างของคำสั่งใด

- ก.เมนูไฟล์ (File)
- ข.หน้าแรก (Home)
- ค.แทรก (Insert)
- ง.หน้าการเปลี่ยน (Transitions)



29. จากรูปคือหน้าต่างของคำสั่งใด

- ก.เมนูไฟล์ (File)
- ข.หน้าแรก (Home)
- ค.แทรก (Insert)
- ง.หน้าการเปลี่ยน (Transitions)



30. จากรูปคือหน้าต่างของคำสั่งใด

- ก.เมนูไฟล์ (File)
- ข.หน้าแรก (Home)
- ค.แทรก (Insert)
- ง.หน้าการเปลี่ยน (Transitions)

