

LKPD

Lembar Kerja Peserta Didik

ZAT DAN PERUBAHANNYA



Nama :

No/Kelas:



LKPD ZAT DAN PERUBAHANNYA

Amati Tayangan di bawah ini!



Kelompokan beda benda dibawah sesuai dengan wujudnya dengan cara memindahkan gambar ke kotak yang tersedia



PADAT






CAIR



GAS



Pilihlah ciri partikel yang tepat dengan cara mengklik jawaban yang tersedia!

Partikel	Bentuk	Volume	Gaya ikat partikel	Jarak antar partikel	Pergerakan partikel penyusun
 <p>Zat Padat</p>					
 <p>Zat Cair</p>					
 <p>Zat gas</p>					

Jodohkanlah dengan cara menarik garis



Menguap

Mencair

Mengembun

Mengkristal

Menyublim

Membeku

Jodohkanlah dengan cara menarik garis

Cair menjadi padat

Cair menjadi gas

Padat menjadi cair

Padat menjadi gas

Gas menjadi cair

Gas menjadi padat

Menguap

Mencair

Mengembun

Mengkristal

Menyublim

Membeku

Amati Tayangan di bawah ini!

Berilah tanda centang pada jawaban yang benar

Benda	Perubahan fisika	Perubahan kimia
Singkong menjadi Tape		
Lilin yang meleleh		
Gula larut dalam air		
Besi berkarat		
Kembang api dibakar		
Beras ditumbuk menjadi tepung		
Beras dimasak menjadi nasi		
Membakar kertas		
Menghaluskan kayu menjadi serbuk gergaji		
Mencairkan es batu		