

ESCUELA DE EDUCACIÓN BÁSICA "EDUARDO KINGMAN"

Sibambe # 510 y Ambato

2-154-409

EXAMEN DEL SEGUNDO QUIMESTRE



ASIGNATURA: ESTUDIOS SOCIALES

AÑO BÁSICO: 3ERO A y B

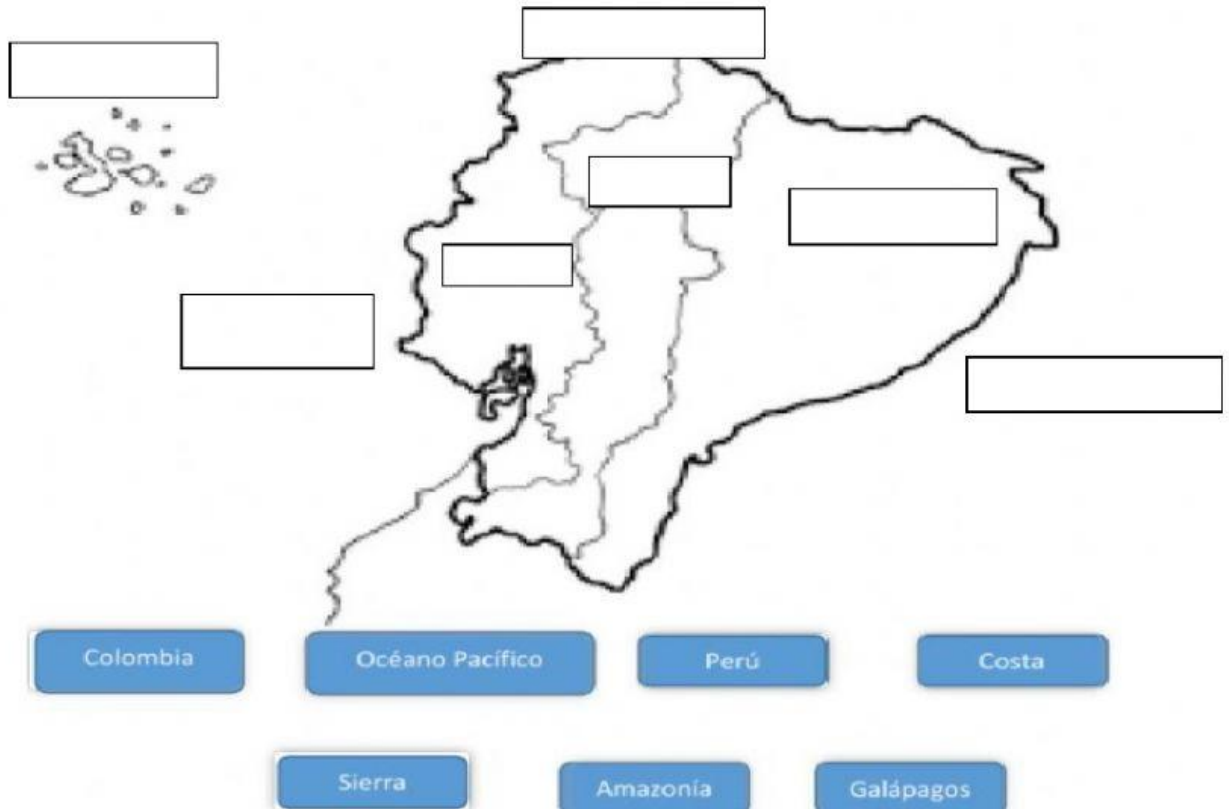


NOMBRE: _____

FECHA: _____

FIRMA DEL PROFESOR


1.-UBICA LOS LIMITES Y REGIONES DEL ECUADOR. (1.75Pts)



2.- ARRASTRA EL NOMBRE AL LUGAR QUE CORRESPONDE SEGÚN LA IMAGEN (1.40)

PATRIMONIO CULTURAL

PATRIMONIO NATURAL



3.-COMPLETE LOS ESPACIOS EN BLANCO CON LAS PALABRAS DEL RECUADRO (2 ptos)

| | | | |
|----------------|-------------------------|------------------|-----------------|
| Región Litoral | Cordillera de los Andes | Región Amazónica | América del Sur |
|----------------|-------------------------|------------------|-----------------|

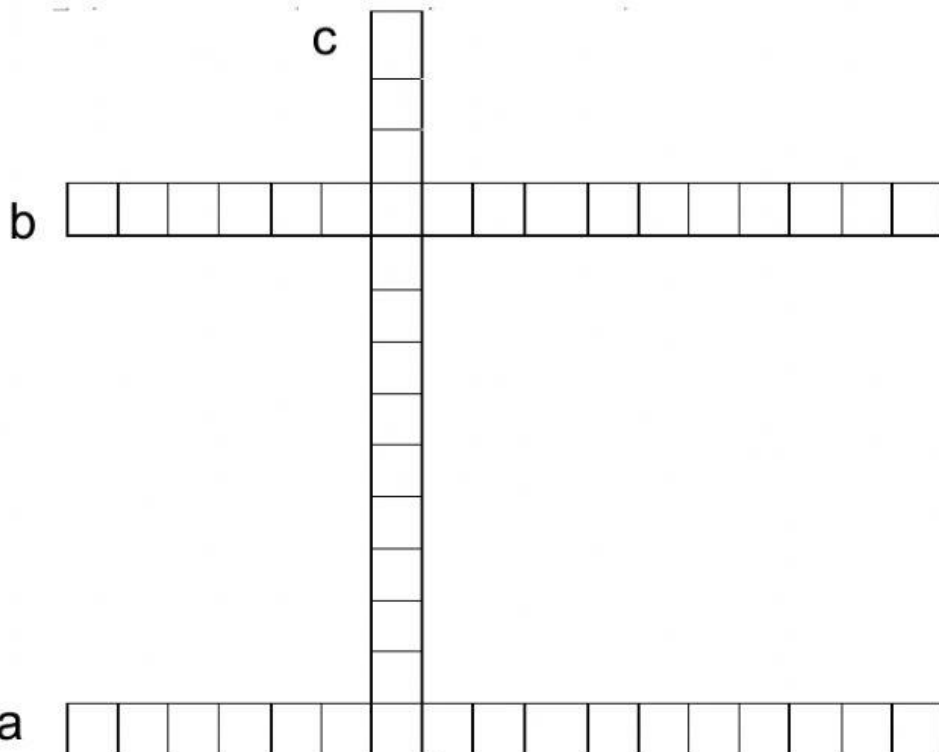
- a) Ecuador está atravesado por la _____.
- b) _____ Hay especies de animales, plantas, selvas e islas.
- c) Ecuador está ubicado en _____.
- d) _____ Hay playas para muchos visitantes.

4.-MARCA SI O NO SEGÚN CORRESPONDA. (2 Ptos)

| | SI | NO |
|---|--------------------------|--------------------------|
| a) Todos somos miembros de una comunidad. | <input type="checkbox"/> | <input type="checkbox"/> |
| b) Un grupo de cantones forman una parroquia. | <input type="checkbox"/> | <input type="checkbox"/> |
| c) La Flora en Ecuador es normal. | <input type="checkbox"/> | <input type="checkbox"/> |
| d) La reunión de barrios y caseríos forma cantones. | <input type="checkbox"/> | <input type="checkbox"/> |

5.-COMPLETA EL SIGUIENTE CRUCIGRAMA SEGÚN LAS PISTAS DE CADA LITERAL (1.35 Ptos).

- a) Acontecimientos religiosos como Navidad, Semana Santa.
- b) Cumpleaños de los miembros de la familia.
- c) Nuestra Historia, Fundación, Creación e Independencia.



6.-SELECCIONA LA RESPUESTA CORRECTA SEGÚN LA IMAGEN A SI ES UN DERECHO O UN DEBER. (1,50 Ptos)

