

NOMBRES Y APELLIDOS

CURSO:

PROF.MARIA Y. CLAROS S.

1. UNE CON UNA LÍNEA LAS CAPAS DEL SUELO

ARBOLES Y PLANTAS


ROCAS

SUBSUELO

SUELO

2. SELECCIONA CUÁL DE LOS DOS ES FALSO O VERDADERO


EL SUBSUELO ES LA CAPA DE LA TIERRA QUE SE ENCUENTRA DEBAJO DEL SUELO SUPERFICIAL DONDE SE ENCUENTRAN LOS MINERALES




EL SUBSUELO ES LA CAPA DEL FONDO DE LAS ROCAS DE LA TIERRA QUE SE ENCUENTRA DEBAJO DEL AGUA SUPERFICIAL DONDE SE ENCUENTRAN LOS MINERALES



SE DENOMINA TERRITORIO A UN ÁREA DONDE SIEMPRE CUENTA CON LA POSESIÓN DE UNA PERSONA, ORGANIZACIÓN, INSTITUCIÓN, ESTADO O UN PAÍS



SE DENOMINA TERRITORIO A UN ÁREA DONDE SIEMPRE HAY CANCHAS, PARQUES, MERCADOS, PERSONAS, EN UN ESTADO DE ALEGRÍA Y GOZO.



3. SELECCIONA EL NOMBRE CORRECTO DE CADA ANIMAL DE BOLIVIA.



Blank purple box for labeling the capybara.



Blank purple box for labeling the black bear.



Blank purple box for labeling the red macaw parrot.



Blank purple box for labeling the chacoan porcupine.



Blank purple box for labeling the pink flamingo.



Blank purple box for labeling the condor.



Blank purple box for labeling the golden fox.



Blank purple box for labeling the chinchilla.



Blank purple box for labeling the toucan.



Blank purple box for labeling the jaguar.



Blank purple box for labeling the pink waterfowl.



Blank purple box for labeling the guanacos.



Blank purple box for labeling the guanacos.



Blank purple box for labeling the puma.



Blank purple box for labeling the tiger.