





# Sumas.

Realiza las siguientes sumas, coloca el número que corresponde al resultado.

 $+$  $=$

 $+$  $=$

 $+$  $=$

8

5

4

Mechix, preescolar.