

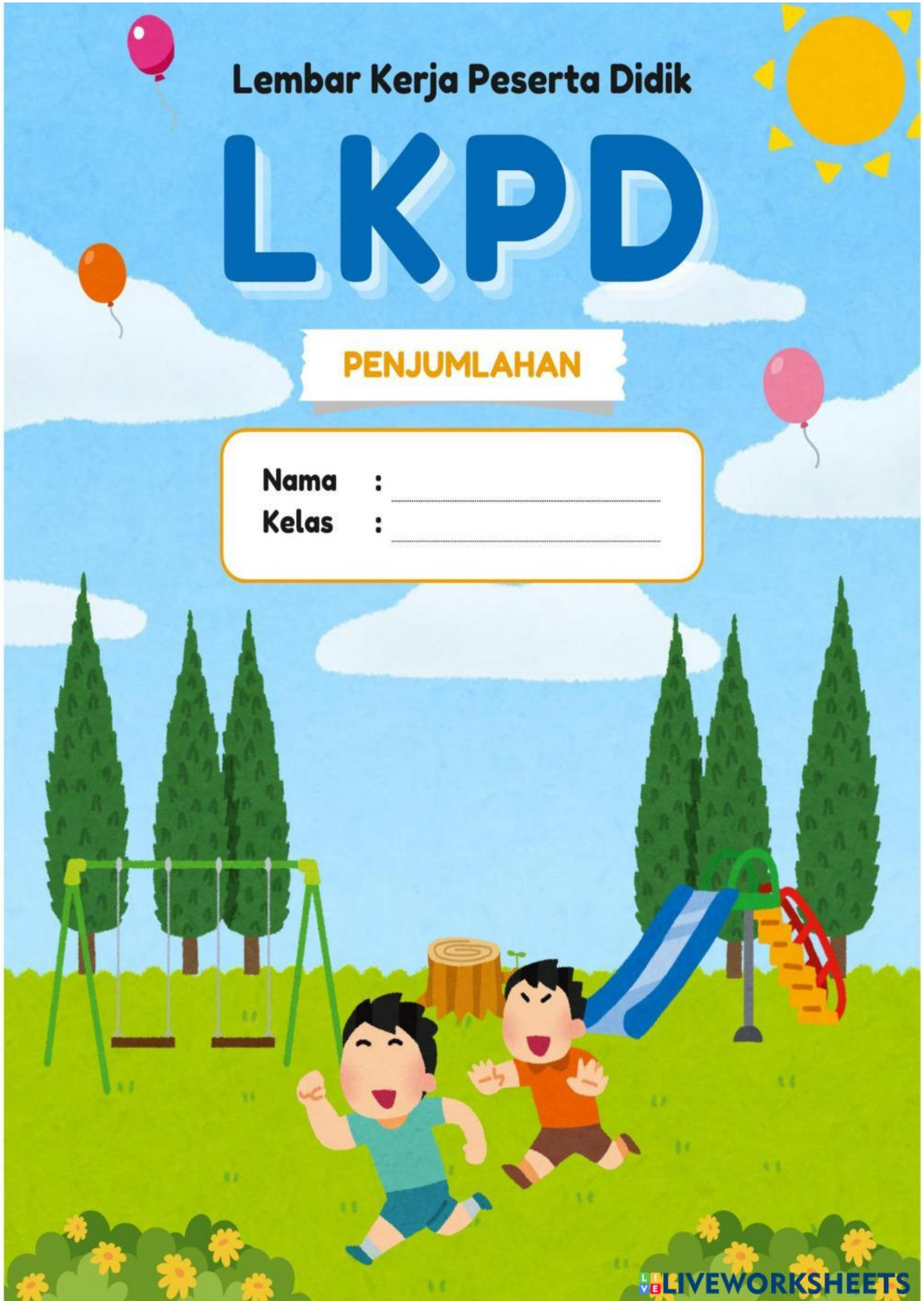
Lembar Kerja Peserta Didik

LKPD

PENJUMLAHAN

Nama : _____

Kelas : _____





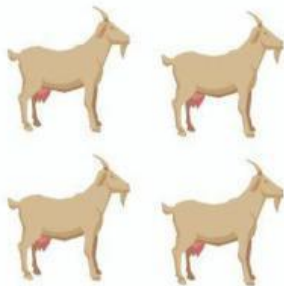




Nama:

Kelas:

Menulis Hasil Penjumlahan

Tulis angka di dalam kotak sesuai hasil penjumlahan gambar!



Hitunglah operasi penjumlahan di bawah ini dan
berilah tanda centang pada hasilnya!

$2 + 5$		
6	8	7

$5 + 3$		
2	9	8

$6 + 1$		
7	10	2

$7 + 2$		
10	8	9

$8 + 1$		
9	7	8

$4 + 4$		
6	9	8

$5 + 5$		
10	4	9

$1 + 9$		
10	7	8

$4 + 5$		
9	7	8

$7 + 2$		
10	8	9

$7 + 3$		
8	9	10

$8 + 1$		
8	9	10

Menghitung Titik Dadu

Hitunglah jumlah titik dadu pada tiap baris lalu hubungkan dengan angka yang sesuai dengan sebuah garis!

