



LKPD

MATEMATIKA "PENJUMLAHAN"


KELAS 2 SD



Hitunglah hasil dari operasi penjumlahan dan isikan di kotak yang disediakan




6 strawberries + 6 strawberries =



10 lemons + 6 lemons =



7 eggplants + 6 eggplants =



8 apples + 8 apples =



8 oranges + 5 oranges =

Hitunglah hasil dari operasi penjumlahan dan isikan di kotak yang disediakan



+



=



+



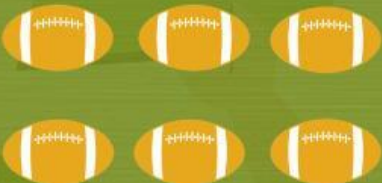
=



+



=



+



=





+



=





Hitunglah operasi penjumlahan
di bawah ini dengan baik dan benar!

1. $5 + \dots = 15$

a. 5

c. 8

b. 10

2. $5 + \dots = 16$

a. 10

c. 12

b. 11

3. $8 + \dots = 19$

a. 7

c. 9

b. 8

4. $8 + \dots = 16$

a. 7

c. 8


b. 6

5. $9 + \dots = 12$


a. 2

c. 4

b. 3



Hitunglah operasi penjumlahan
dengan melengkapi soal dibawah ini!




6. $5 + \dots = 20$

7. $\dots + 4 = 10$


8. $\dots + 4 = 11$

9. $\dots + 5 = 17$

10. $\dots + 8 = 17$



Hitunglah operasi penjumlahan
dengan melengkapi soal dibawah ini!




1. $12 + 5 = 17$



.....

2. $15 + 5 = 20$



.....

3. $18 + 2 = 20$



.....

4. $16 + 4 = 20$



.....

Jawablah soal cerita dibawah ini!

- 1. Jika Jesika memiliki stroberi 10, lalu dia diberi 10 lagi oleh temannya, berapakah stroberi yang dimiliki Jesika saat ini?**
- 2. Jika Tegar memiliki 10 permen, lalu dia diberi 8 lagi oleh temannya, berapakah permen yang dimiliki Tegar saat ini?**
- 3. Chandra memiliki 6 pulpen, dia diberi 7 lagi oleh ibunya, berapa pulpen yang dimiliki Chandra saat ini?**
- 4. Hans memiliki 7 kelereng, tapi dia membeli lagi 10 kelereng di warung, berapa jumlah kelereng Hans saat ini?**
- 5. Raina membeli buku 8, tapi dia membeli lagi di toko buku berjumlah 10 lagi. Berapa jumlah buku yang Raina punya saat ini?**