




Nombre del/la estudiante: _____
Curso: Preparatoria Paralelo: _____ Asignatura: Computación
Nombre del docente: Lic. María Elizabeth Mirabá Zavala.

1.- Seleccionar la imagen de los discos duros de la computadora.



2.- Selecciona los elementos que representan al HARDWARE de la computadora.





3.- Selecciona los elementos que representan al SOFTWARE de la computadora.

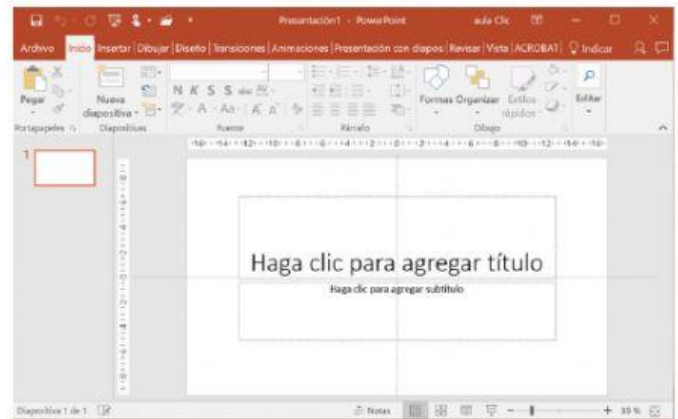
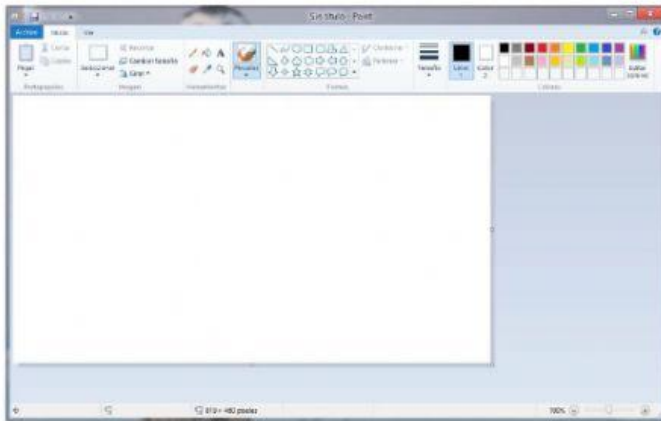


4.- SELECCIONA LA EL ICONO DE PAINT






5- SELECCIONA LA VENTANA DE PAINT



6.- RELACIONA CON UNA LÍNEA QUE OPCIÓN (PINCEL) SE UTILIZÓ EN EL SIGUIENTE TRAZO.





7.- Relacionar mediante una línea.

La computadora encendida con el foco encendido

La computadora apagada con el foco apagado

