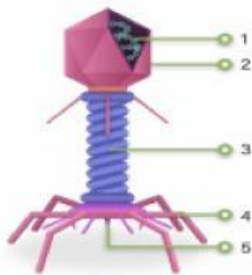


LEMBAR KERJA PESERTA DIDIK

Judul : VIRUS

- Tujuan :
1. Memahami karakteristik virus
 2. Memahami cara reproduksi virus
 3. Memahami pengelompokan virus
 4. Memahami peranan virus

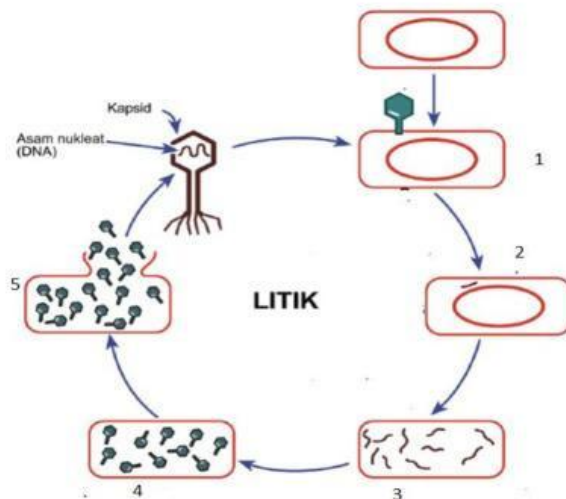
1. Lengkapilah keterangan gambar dari struktur tubuh virus T berikut !



DNA	Selubung ekor	penusuk
Kapsid	Serabut ekor	

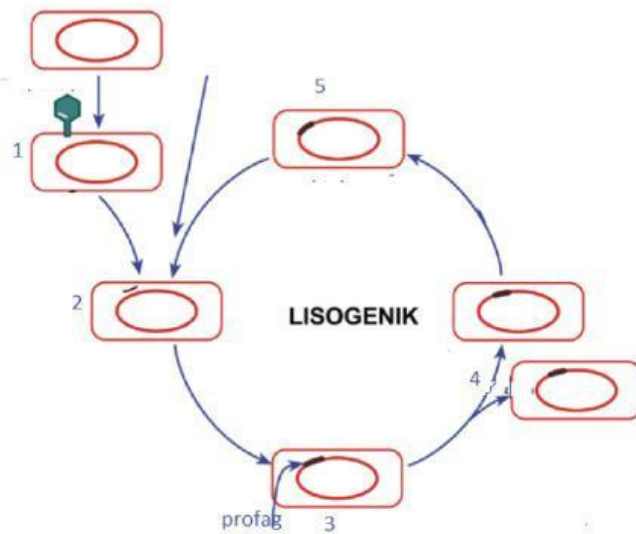
2. Lengkapilah keterangan gambar dari tahapan reproduksi virus berikut !

A. siklus litik



Penempelan	Lisis	Injeksi
Sintesis	Perakitan	

B. siklus lisogenik



Penempelan

Penggabungan

Injeksi

Pembelahan

Sintesis

3. Berilah tanda centang BENAR ATAU SALAH untuk pernyataan berikut

	PERNYATAAN	BENAR	SALAH
1.	virus hanya dapat berkembang biak pada sel hidup		
2.	struktur tubuh virus terdiri atas materi genetic dan kapsid		
3	virus dengue dapat menyebabkan penyakit influenza pada manusia		
4	NCD adalah virus yang menyerang kuku dan mulut pada sapi		
5	Rabies adalah penyakit yang menyerang manusia bukan dari jenis virus		
6	virus digolongkan bukan makhluk hidup karena tubuhnya bisa berbentuk kristal		
7	Tungro adalah penyakit yang disebabkan virus yang menyerang hewan		
8	suatu virus dengan materi genetic yang terbungkus oleh pembungkus protein disebut virion		
9	materi genetic virus yang sudah bergabung dengan materi genetic bakteri disebut profag		
10	cacar monyet adalah jenis penyakit yang disebabkan oleh virus dan inangnya adalah monyet saja		

