

Nama: _____

Kelas: _____

Bagian Mata Luar

Tulislah nama bagian mata beserta fungsinya yang sesuai dengan gambar pada kolom kosong di bawah ini!



Pupil

Bulu mata

Alis

Iris

Sklera

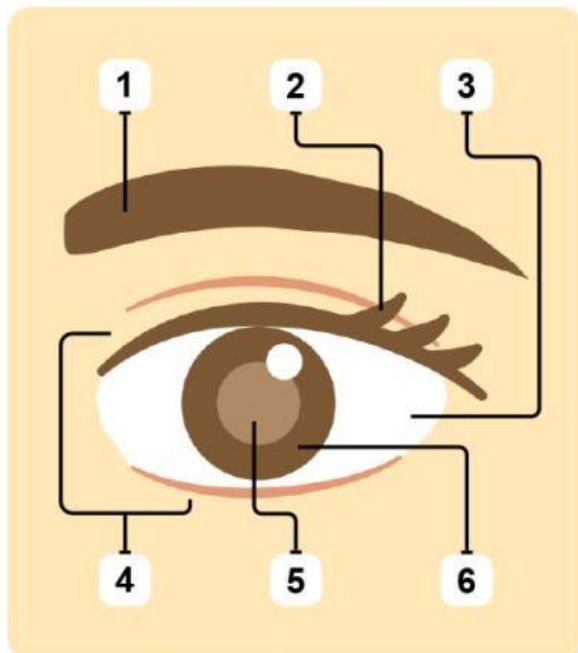
Lipatan mata

1 Nama bagian mata: _____

Fungsi: _____

2 Nama bagian mata: _____

Fungsi: _____



3 Nama bagian mata: _____

Fungsi: _____

4 Nama bagian mata: _____

Fungsi: _____

6 Nama bagian mata: _____

Fungsi: _____

5 Nama bagian mata: _____

Fungsi: _____

Nama: _____

Kelas: _____



Bagian Mata Dalam

Tulislah nama bagian mata dan fungsinya pada kolom kosong sesuai dengan gambar di bawah ini!

Lensa

Kornea

Retina

Otot siliaris

Saraf mata

1

Nama bagian mata: _____

Fungsi: _____

5

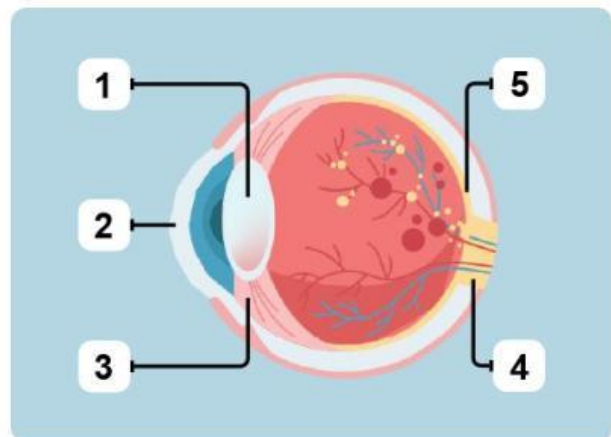
Nama bagian mata: _____

Fungsi: _____

2

Nama bagian mata: _____

Fungsi: _____



3

Nama bagian mata: _____

Fungsi: _____

4

Nama bagian mata: _____

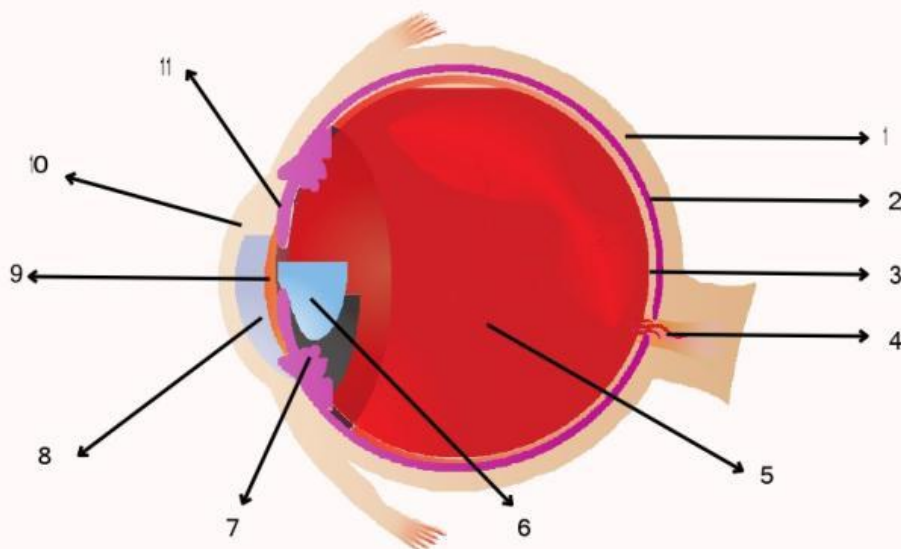
Fungsi: _____

Nama: _____

kelas: _____

BAGIAN-BAGIAN MATA

Cobalah untuk mengamati gambar mata berikut ini.
Beri nama setiap bagian yang ditunjuk dan jelaskan fungsi dari masing-masing bagian!



No.	Nama Bagian Mata	Fungsi
1.		
2.		
3.		
4.		
5.		
6.		
7.		
8.		
9.		
10.		
11.		

Nama:

Kelas:

Bagian dalam Mata dan Fungsinya

Tuliskan fungsi dari bagian mata berikut ini!

