

FICHA INTERACTIVA MATEMÁTICA – 1ºA

Números hasta el 60

1. Escribe de forma simbólica los siguientes números.

siete	<input type="text"/>	Quince	<input type="text"/>	cuarenta y dos	<input type="text"/>
uno	<input type="text"/>	veinte	<input type="text"/>	cuarenta y seis	<input type="text"/>
cinco	<input type="text"/>	veintiuno	<input type="text"/>	sesenta y siete	<input type="text"/>
trece	<input type="text"/>	veintisiete	<input type="text"/>	setenta y ocho	<input type="text"/>
once	<input type="text"/>	veintinueve	<input type="text"/>	ochenta y nueve	<input type="text"/>
diecisiete	<input type="text"/>	treinta y uno	<input type="text"/>	noventa y ocho	<input type="text"/>
dieciocho	<input type="text"/>	treinta y nueve	<input type="text"/>	noventa y nueve	<input type="text"/>


2. Relaciona con el número.










5 decenas y 3 unidades
2 decenas y 1 unidades
6 decenas y 0 unidades
4 decenas y 8 unidades
6 decenas y 2 nidades
1 decena y 9 unidades

21
48
53
60
19
62

3. Escribe como se lee:

16	<input type="text"/>	62	<input type="text"/>
25	<input type="text"/>	75	<input type="text"/>
34	<input type="text"/>	86	<input type="text"/>
57	<input type="text"/>	96	<input type="text"/>

4. Escribe el número en cada .

Catorce	Diecinueve	Veintiséis	Treinta y siete
			
Cuarenta y cuatro	Cuarenta y nueve	Cuarenta y tres	Cuarenta y ocho
			
Sesenta y cinco			
			

5. Escribe el nombre del número en cada .

Trece			
