


EVALUASI

Jawablah pertanyaan di
bawah ini dengan benar!

Nama

Kelas

Tanggal




1.

a) 1

b) 4

c) 5




2.

a) 7

b) 10

c) 6



3.

gambar diatas menunjukkan bilangan ...

a) empat

b) satu

c) tiga

4. tangan manakah yang menunjukan bilangan "sembilan". . .

a)



b)



5. jari tangan kita ada

a) 8

b) 5

c) 10



6.

berapakah jumlah Apel?

a)

1

b)

2

c)

4

d)

3



7.

ada berapa anak pada gambar itu?

a) 1

b) 2

c) 3

8. gambar benda di bawah ini yang jumlahnya 6 adalah

a)



b)



c)



9. gambar yang menunjukkan 8 balon adalah ...

a)



b)



c)



d)



10.



tupai ada

a) 8

b) 7

c) 9

d) 10