



ULANGAN HARIAN

MATEMATIKA

Class 7





bilangan




bulat



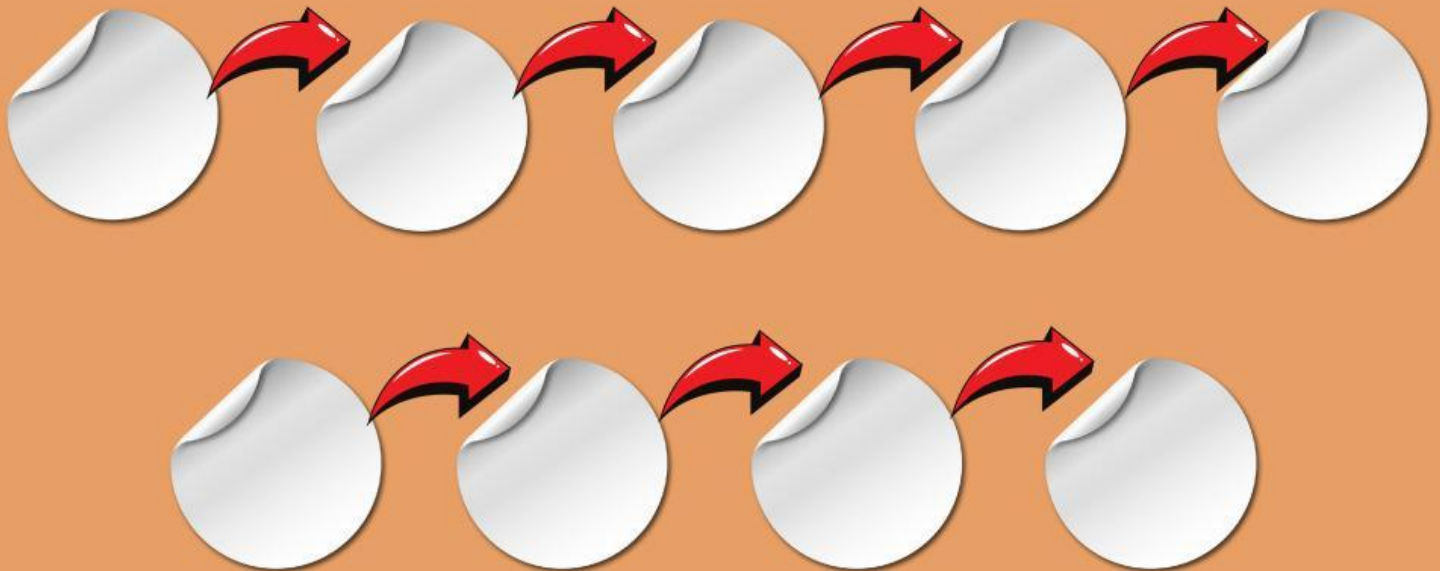
1. Tuliskan tanda pertidaksamaan yang sesuai !

 -2134  -2314

 -206  -26

2. Urutkan bilangan di bawah ini dari yang terkecil!

$-26, 7, -18, 47, -67, 2, -283, -1, 235$



3. selesaikan operasi bilangan bulat ini !

a $12 - (-20) = \dots\dots$

c $-12 - (-20) = \dots\dots$

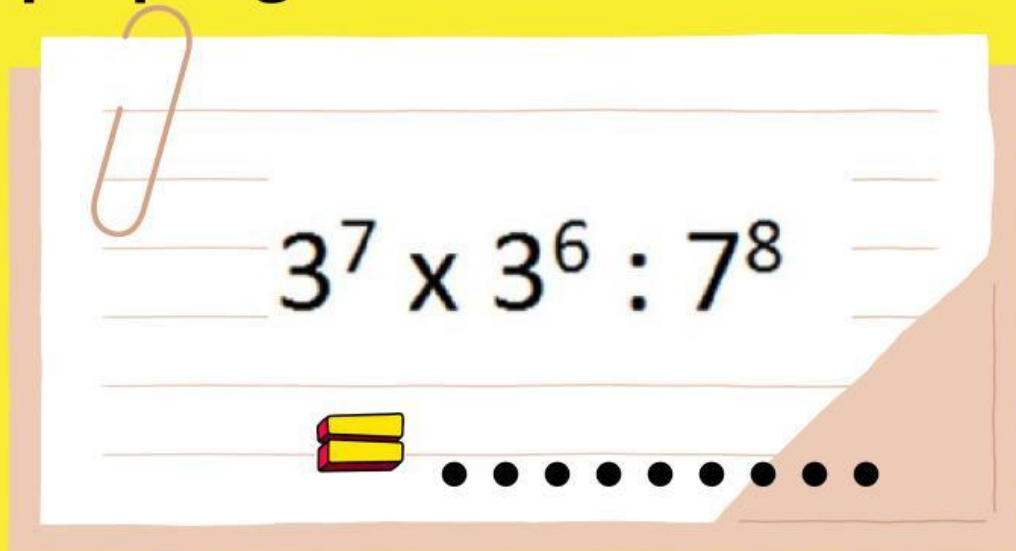
b $12 + (-20) = \dots\dots$

d $-12 - 20 = \dots\dots$

4. Hasil dari operasi di bawah ini adalah....

$$10 + 20 : 4 \times (-2) - 25 = \dots\dots$$

5. Hasil perpangkatan di bawah ini adalah !


$$3^7 \times 3^6 : 7^8$$

.....

6. FPB dari 20 dan 36 adalah. . . .



7. KPK dari 12 dan 14 adalah....



8. Painah mengikuti ujian matematika,
tersedia 30 soal

Painah dapat menjawab 17 soal dengan
benar, dan 8 soal tidak dijawab. Jika
jawaban benar diberikan skor 3, salah
diberikan skor -2, jika tidak dijawab skor
0. Berapa total skor Painah ?

JAWAB

