












# POS 2

## MATEMATIKA ALKITAB

Hitunglah secara bertahap berdasarkan petunjuk yang diberikan!

1. hari ke berapakah Tuhan menciptakan benda-benda penerang? 
2. Tulah ke berapakah katak?  $+$  
3. berapakah jumlah pengintai yang diutus Musa untuk mengintai Tanah Kanaan?  $\times$  
4. Berapakah jumlah pengintai yang diutus Yosua untuk mengintai Yerikho  $\bullet$  
5. Berapa tempayan yang diperintahkan Yesus untuk diisi dengan air sampai penuh pada mujizat di Kana?  $+$  
6. Berapakah jumlah semua pelita yang dibawa gadis bodoh dan gadis bijaksana dalam perumpamaan Yesus?  $-$  
7. Berapakah jumlah semua lembu dalam mimpi Firaun yang diartikan oleh Yusuf?  $\times$  
8. Berapakah jumlah semua anak Yakub, baik laki-laki maupun perempuan?  $\times$  
9. Pada hari ke berapakah orang Israel disunat, menurut perintah Tuhan dalam Taurat?  $+$  

**Total**

