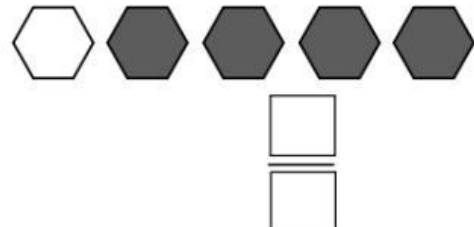
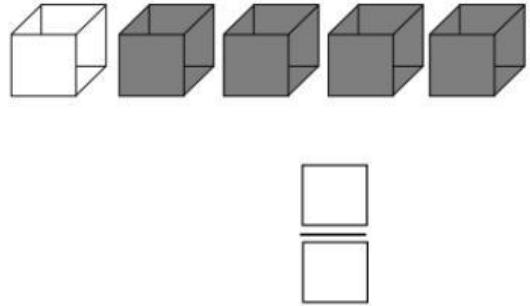
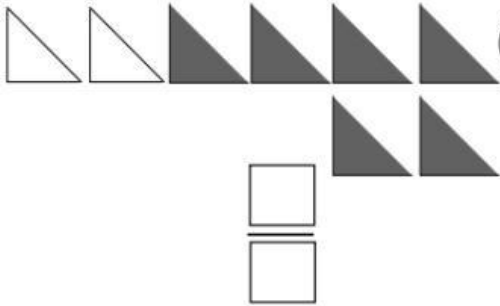
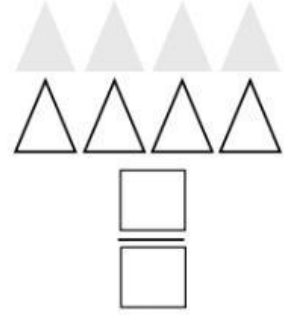
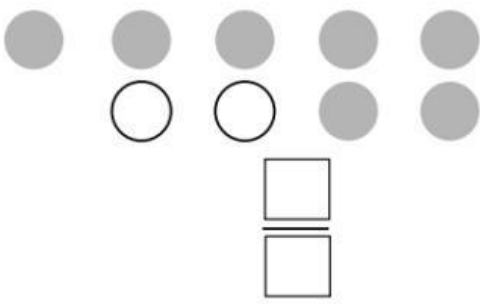
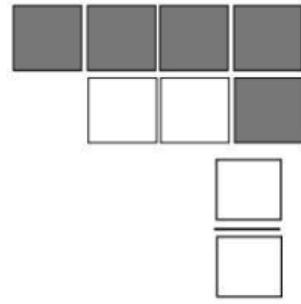
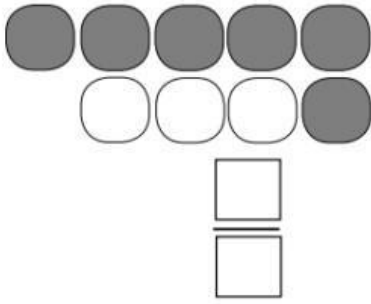


الفصل (٧): الدرس (١): مضاعفات كسور الوحدة
أقرأ الكسر الذي تمثله الأجزاء المظللة وأكتبه:



٩ اشترى أياد ٧ علب حليب تناول منها ٤، ما الكسر الذي تمثله العلب التي تناولها؟

١٠ زرعت أشواق ١٠ وردات، ٥ منها من الرازقي. ما الكسر الذي تمثله

أزهار الرازقي؟