

Lembar Kerja Peserta Didik



# LKPD

INFORMATIKA KELAS XI



TOPOLOGI JARINGAN

Nama Kelompok : \_\_\_\_\_

Kelas : \_\_\_\_\_

Nama Anggota :



## PETUNJUK Pengerjaan LKPD :

1. Amatilah video pembelajaran disajikan dalam layar monitor
2. Sebelumnya pastikan biodata siswa sudah terisi dengan benar
3. Lakukanlah diskusi kelompok untuk dapat mengerjakan LKPD dengan baik dan benar
4. Pastikan semua tugas dalam LKPD sudah dilakukan.

## LANGKAH-LANGKAH Pengerjaan LKPD :

1. Simaklah video pembelajaran pada layar monitor guru

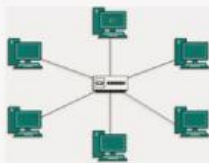


2. Berikut ini merupakan gambar dari topologi jaringan komputer. Cocokkanlah dengan BENAR antar gambar dan nama dari topologi jaringan tersebut

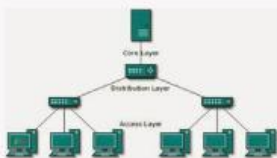
Tarik garis dari gambar bagian topologi jaringan ke nama bagian yang benar.



TOPOLOGI TREE



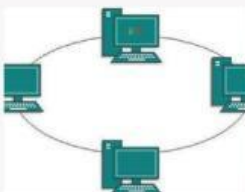
TOPOLOGI BUS



TOPOLOGI MESH



TOPOLOGI RING



TOPOLOGI STAR



3. Lakukanlah diskusi kelompok untuk menentukan kelebihan dan kekurangan dari topologi jaringan berikut ini

TOPOLOGI  
BUS

TOPOLOGI  
STAR

TOPOLOGI  
RING

TOPOLOGI  
TREE

TOPOLOGI  
MESH



# Diskusikanlah !

Setelah menyimak penjelasan guru, mengamati video pembelajaran dan melakukan literasi digital, maka tentukanlah topologi jaringan komputer terbaik menurut kelompok kalian ?

Nama Topologi

Alasannya

Kesimpulan

