















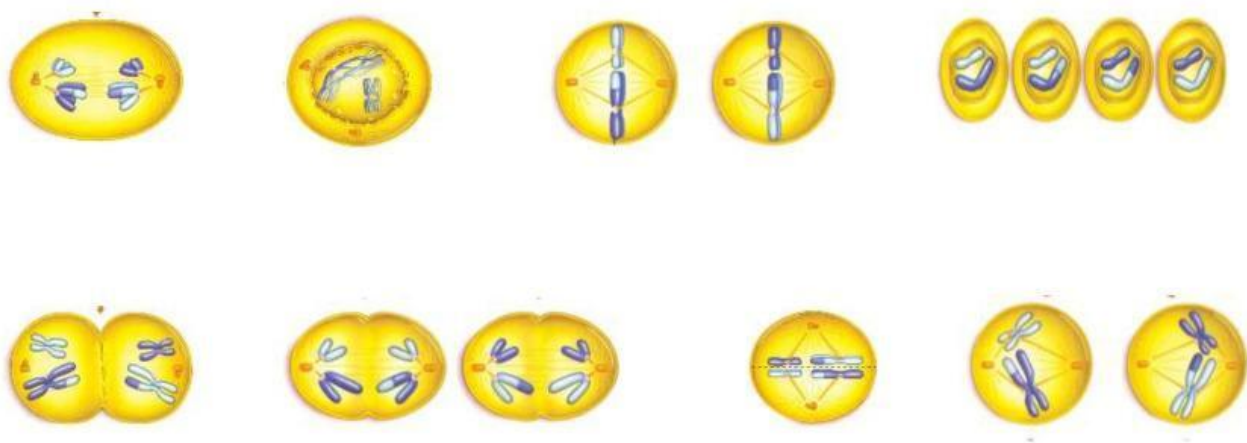


Nama :
Kelas :
No.Absen :

LEMBAR KERJA SISWA : PEMBELAHAN MEIOSIS

A. Perhatikan pembelahan meiosis di bawah ini! Isikan nama tahap pada tiap gambar proses meiosis di bawah ini dengan cara panah ke bawah pada kotak yang disediakan dan gambar pembelahan meiosis secara berurutan dengan cara drag and drop sesuai dengan kotak yang telah disediakan!



B. Tuliskan nama tahap pembelahan meiosis tiap foto mikrograf berikut dan isi deskripsi ciri-ciri tiap tahap sesuai gambar dengan cara panah ke bawah pada kotak yang disediakan!

