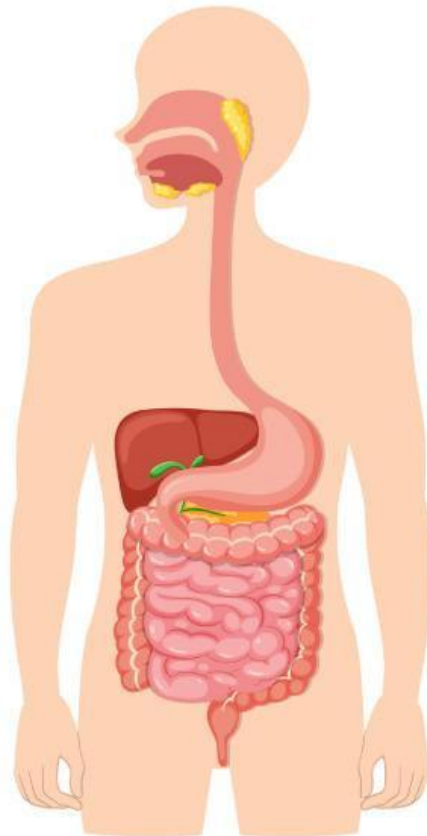


# LEMBAR KERJA PESERTA DIDIK

## SISTEM PENCERNAAN PADA MANUSIA



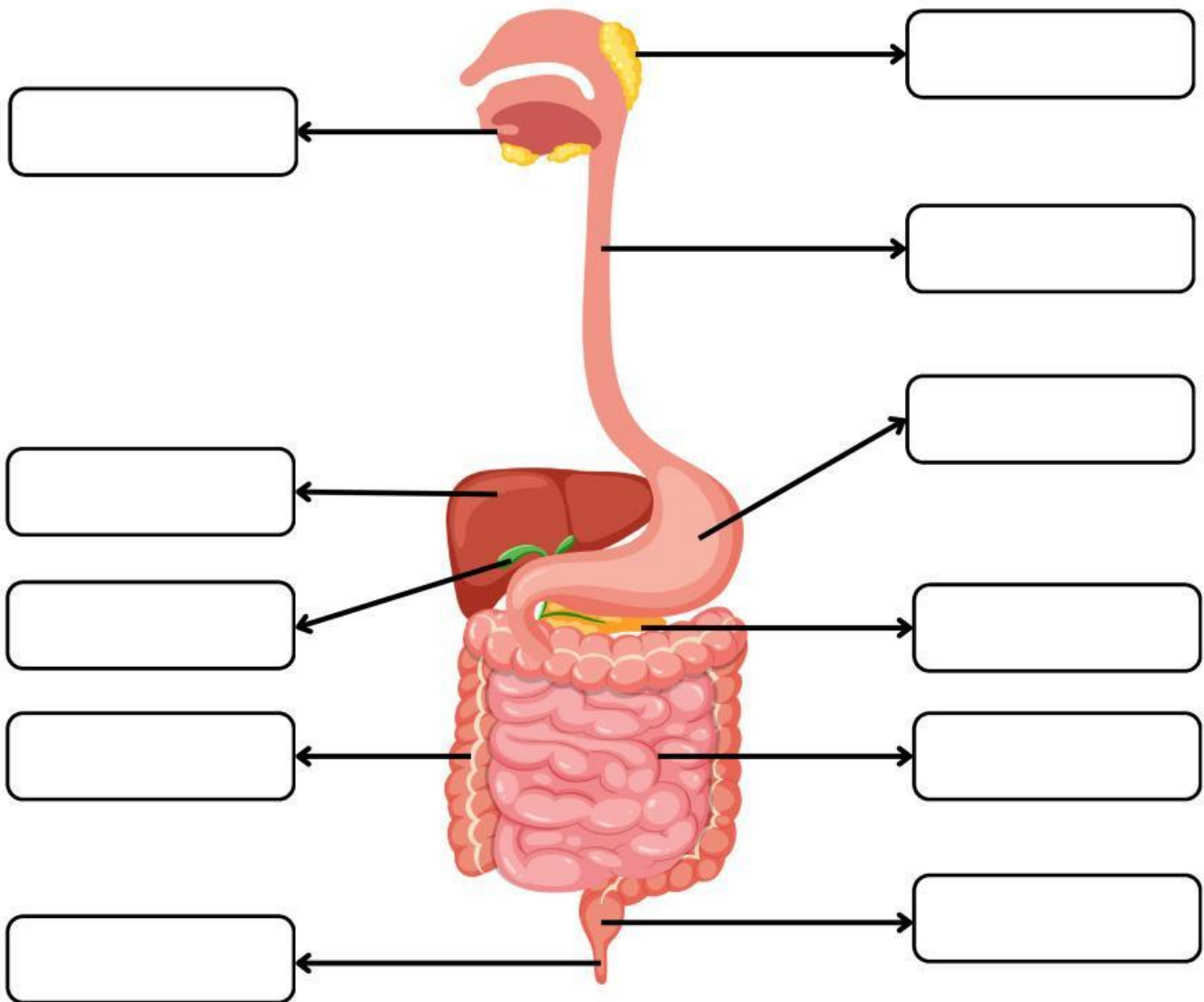
Ilmu Pengetahuan Alam (IPA)  
Kelas 8 Semester 1

NAMA KELOMPOK :

.....  
.....  
.....  
.....

## SISTEM PENCERNAAN MANUSIA

Lengkapi nama organ pencernaan berikut dengan cara menggeser nama ke kotak yang ditunjukkan gambar!



Pankreas

Mulut

Kantung Empedu

Kerongkongan

Lambung

Anus

Usus Halus

Hati

Usus Besar

Kelenjar Ludah

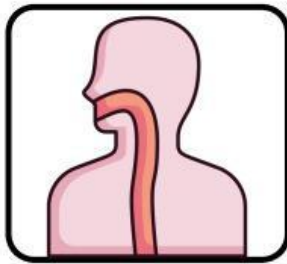
Rektum

# FUNGSI ORGAN PENCERNAAN MANUSIA

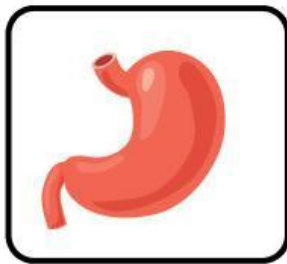
Hubungkan gambar organ pencernaan manusia sesuai proses yang terjadi di dalamnya!



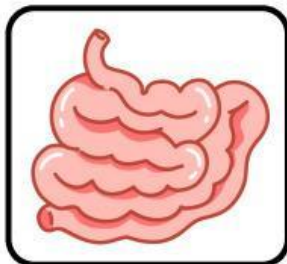
Penyerapan sari-sari makanan



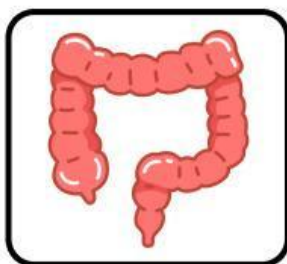
Mengaduk bolus dan mencerna makanan secara kimiawi dengan bantuan enzim



Mengunyah makanan



Meremas dan mendorong bolus ke dalam lambung



Mengeluarkan sisa pencernaan berupa feses



Mengatur kadar air pada sisa makanan

# Enzim pada Sistem Pencernaan Manusia

Pilih nama enzim dan fungsinya yang sesuai dengan organ pencernaan pada gambar!

