

Lembar Kerja Peserta Didik

LKPD

MENGENAL DAN MENGEKPLORASI
IKATAN DAN SIMPUL

Nama :

Kelas :



A. Pilihlah salah satu jawaban yang kalian anggap benar!!

1. Serat yang terbuat dari tumbuhan dan hewan adalah serat...

A Sintetis

C Alam

B Buatan

D Organik

2. Bahan utama kerajinan dengan teknik makrame adalah...

A Tali

C Gantungan kunci

B Kertas origami

D Manik-manik

3. Noken adalah kerajinan yang berasal dari...

A Badui

C Dayak

B Papua

D Sumbawa

4. Berikut adalah sifat serat yang berasal dari tumbuh-rumbuhan....

A Bertekstur halus

C Menghangatkan

B Bertekstur kasar

D Bertekstur lembut

5. Sebuah hasil kerajinan dikatakan memiliki nilai fungsional apabila....

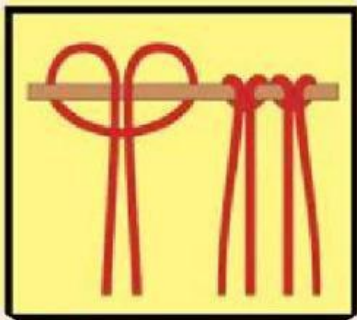
A Kerajinan itu sekedar untuk mendekorasi suatu benda

C Kerajinan itu mempercantik penampilan

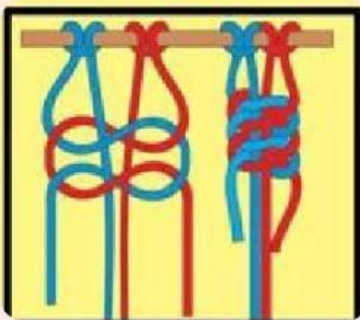
B Kerajinan itu memiliki nilai pakai

D Kerajinan itu untuk hiasan interior

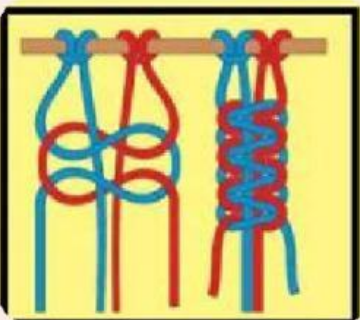
B. Tariklah gambar simpul sesuai dengan nama simpul!!



Simpul Persegi



Simpul Tunggal



Simpul Kepala



Simpul Ganda

C Carilah kata pada table sesuai dengan clue yang sudah disediakan!!

M	A	K	R	A	M	E	S
G	S	A	U	T	A	L	I
E	E	A	J	U	P	M	M
L	R	W	U	Y	A	K	P
A	A	E	J	A	L	P	U
N	T	T	Y	W	O	L	L
G	N	A	N	E	B	U	O

Clue

- Makrame
- Serat
- Simpul
- Gelang
- Tali
- Awet
- Benang
- Jujur
- Kayu
- Woll

D. Dengarkan suara berikut dan tuliskan jawabannya pada kotak!!



Empty blue rectangular box for writing the answer.



Empty blue rectangular box for writing the answer.



Empty blue rectangular box for writing the answer.



GOOD JOB
TEMAN-TEMAN

