
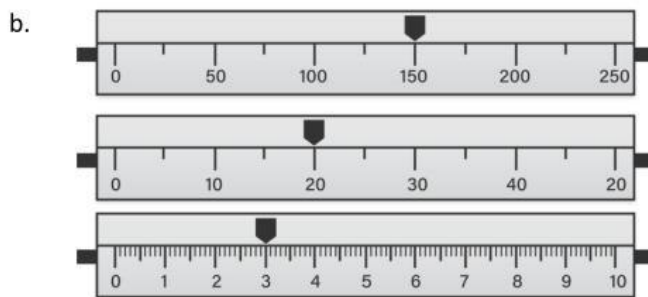


I. Jawablah pertanyaan-pertanyaan berikut ini dengan benar dan tepat! (Skor: 11)

1. (3) Tentukan massa dari pengukuran dengan neraca Ohaus berikut ini:

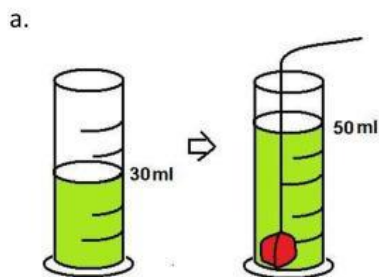


Jawab:

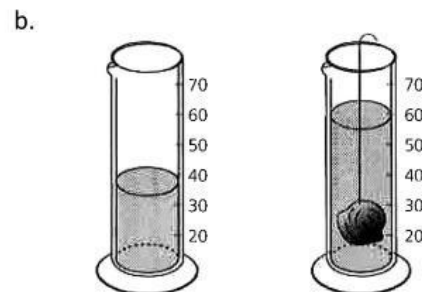


Jawab:

2. (2) Tentukan volume benda berikut ini dengan satuan cm^3 !

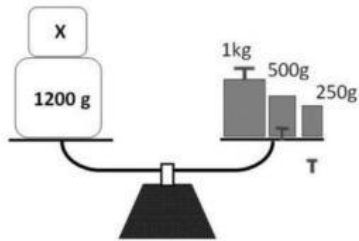


Jawab:

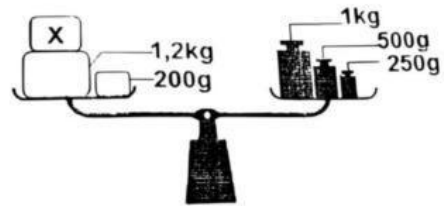


3. (2) Tentukan massa benda berikut ini dengan satuan gr!

a.




b.



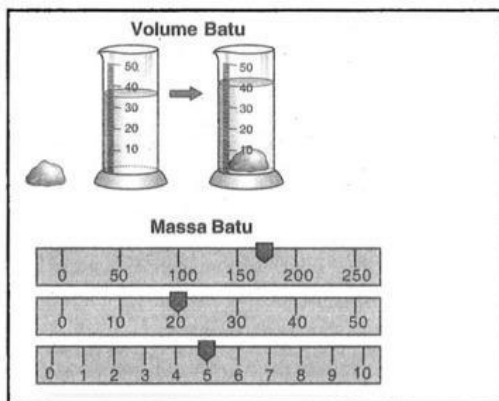
Jawab:

4. (4) Tentukan massa jenis benda berikut ini dengan satuan gr/cm^3 !

a.



b.



Jawab: