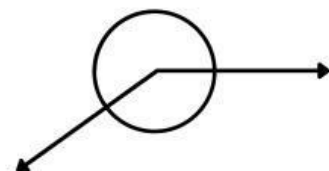
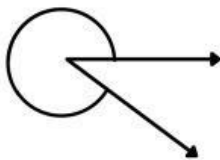
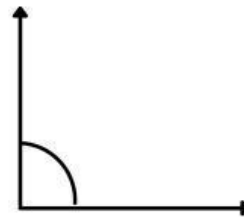
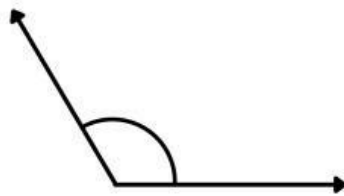
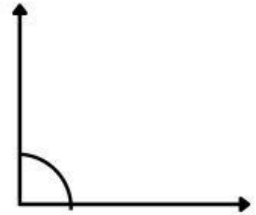
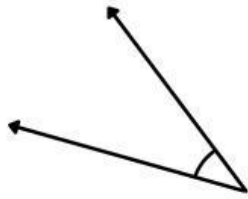


Clasificación de ángulos

Identifica los siguientes ángulos



2. Completa con estas palabras:

LLANO

COMPLETO

RECTO

AGUDO

OBTUSO

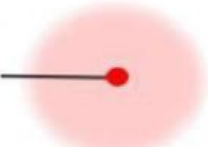
90°

• Este ángulo  es un ángulo

• Un ángulo recto mide

• Este ángulo  se llama ángulo

• Este ángulo  es un ángulo

• Este ángulo  se llama ángulo

• Este ángulo  es un ángulo