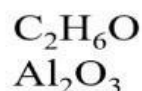


KIỂM TRA BÀI CŨ



Bài 1: Hãy sắp xếp các hợp chất dưới đây thành hai nhóm: nhóm 1 gồm các hợp chất hữu cơ và nhóm 2 gồm các hợp chất vô cơ.

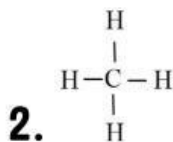


Bài làm

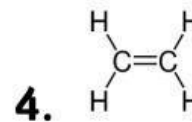
Hợp chất vô cơ	Hợp chất hữu cơ

Bài 2: Trong các công thức sau, công thức nào là công thức phân tử, công thức nào là công thức cấu tạo.

1. CH₄



3. C₂H₄



Đáp án:

CTPT:

CTCT: