



LKPD

ANABOLISME

Nama Anggota Kelompok :



1. Lengkapilah nama bagian kloroplas berikut

Membran luar

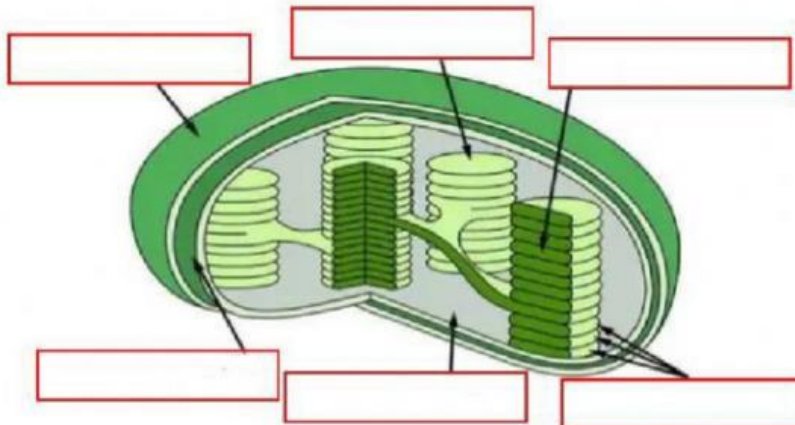
Granum

Lumen

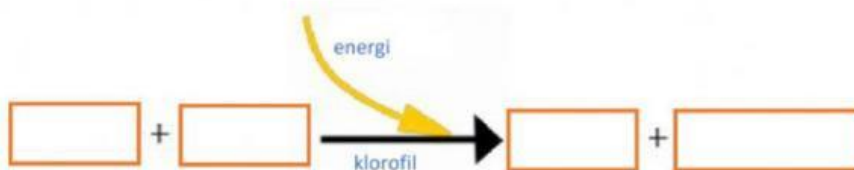
Stroma

Membran dalam

Tilakoid



2. Lengkapilah persamaan reaksi fotosintesis berikut ini

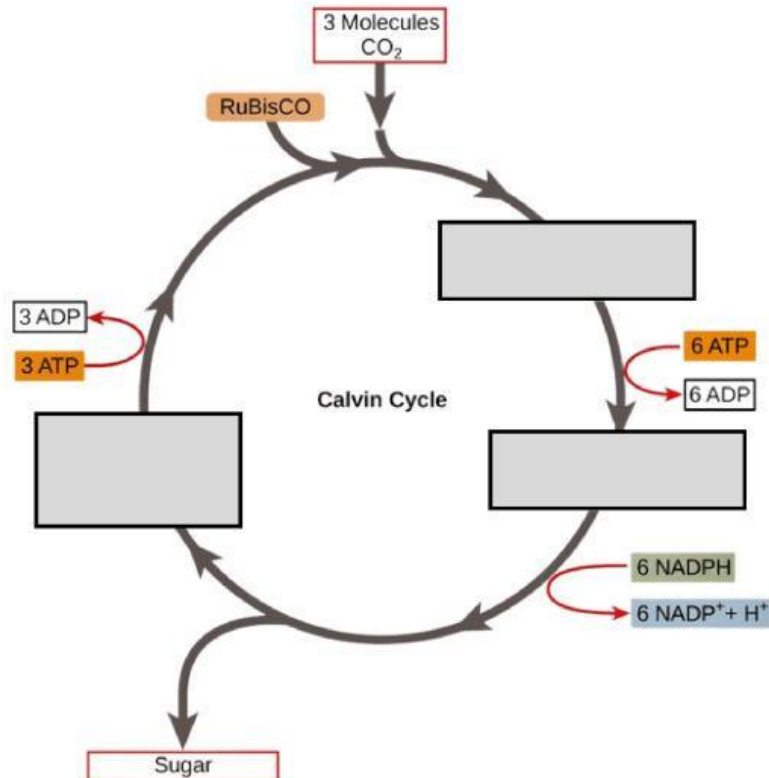




3. Lengkapilah persamaan reaksi terang berikut



4. Lengkapilah tahapan pada reaksi gelap (Siklus Calvin) berikut



Mekanisme tahapan :

Fase 1 :

Fase 2 :

Fase 3 :