

Nama :

Kelas :

TRANSPOR AKTIF DAN TRANSPOR PASIF

Tujuan Pembelajaran

- melalui pengamatan gambar dan hasil referensi membaca peserta didik dapat menjelaskan transpor pasif pada membran sel dengan benar
- melalui pengamatan gambar peserta didik dapat menjelaskan transpor aktif dan pasif
- melalui pengamatan gambar peserta didik dapat menjelaskan kondisi sel dalam konsentrasi larutan yang berbeda

Petunjuk

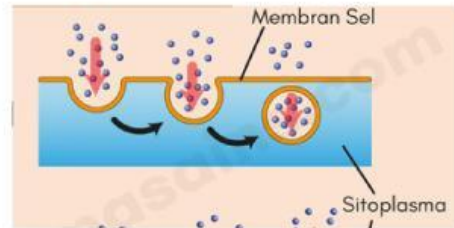
- Kerjakan secara mandiri pertanyaannya
- Kumpulkan informasi terlebih dahulu melalui studi literatur, menggunakan bahan ajar dan buku teks pelajaran
- Pindahkan dan jodohkan jawaban sesuai dengan perintah yang terdapat pada soal

1. Jelaskan secara singkat pengertian transpor membran dan jenis transpor membran!

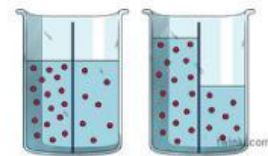
TRANSPOR AKTIF DAN TRANSPOR PASIF

Jodohkanlah kata-kata berikut dengan gambar transpor membran yang benar dan tepat

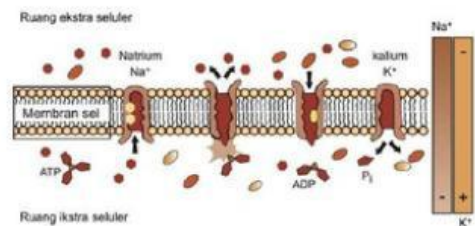
a. Difusi



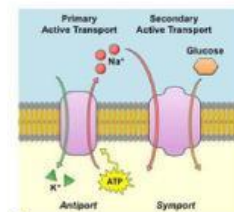
b. Endositosis



c. Osmosis



d. Eksositosis



e. Pompa ion



f. Kotranspor

