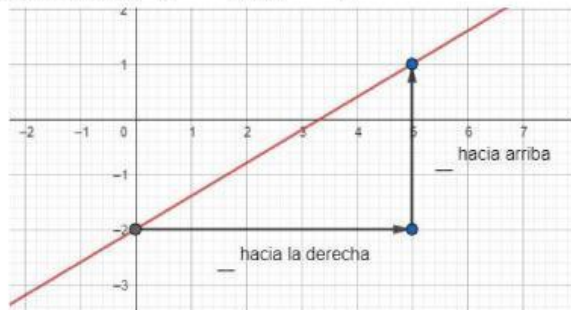


Institución: ISFD y T N°7
 Docente: Clara Fernandez Campo
 Alumnas: Ludmila Vargas Montero Vanessa Fregossi
 Año de cursada : 3ero

Institución Destino: ISAP
 Docente Conformador: Javier Lavallen
 Curso: 2do grupo A

ACTIVIDAD INTERACTIVA DE DE REPASO

Ejercicio 1: $y = \frac{3}{5}x - 2$



Ordenada al origen =
 Pendiente =
 Inclinación:

Ejercicio 2: $y = -\frac{2}{7}x + 1$

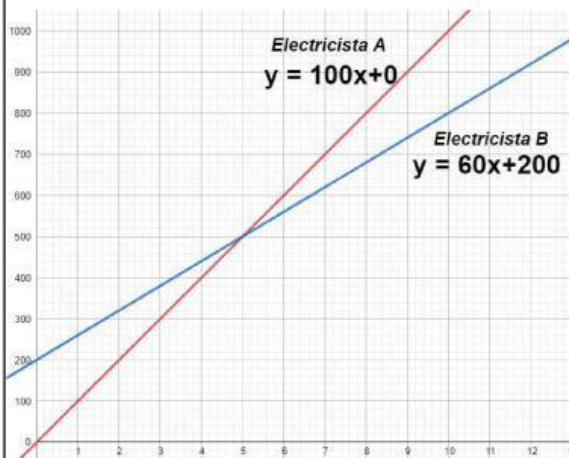
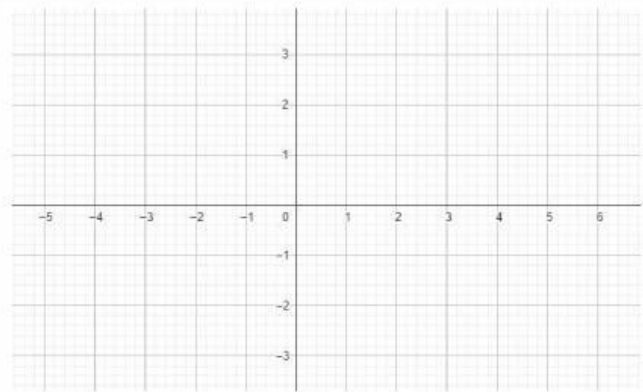


Ordenada al origen =
 Pendiente =
 Inclinación:

ACTIVIDAD 2

Graficar la función lineal a partir de la ecuación explícita de la recta.

- $\frac{1}{2}x + 2$



ACTIVIDAD 3:

La gráfica muestra lo que cobran dos electricistas por cada hora de trabajo. Uno cobra solo por ir hasta el domicilio y el otro no. Responde:

- ¿Qué electricista solo por ir al domicilio? ¿Cuánto?
- ¿En qué cantidad de horas de trabajo cobran lo mismo?
- ¿Cuánto es el importe?
- ¿Qué electricista contrato si se que es un trabajo de una hora?
- ¿Cuánto me cuesta contratar al electricista A por 7 horas de trabajo?