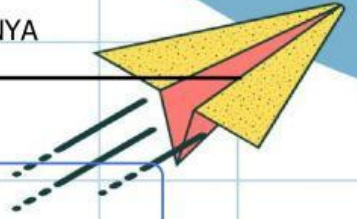




LEMBAR KERJA PESERTA DIDIK (LKPD)

INTERAKSI ANTAR RUANG BENUA ASIA DAN BENUA LAINNYA

Simak Video Materi Pembelajaran berikut!



1. Letak Astronomis Asia (mengisi derajat bujur dan lintang)

⁰LU - ⁰LS Dan ⁰BT - ⁰BT

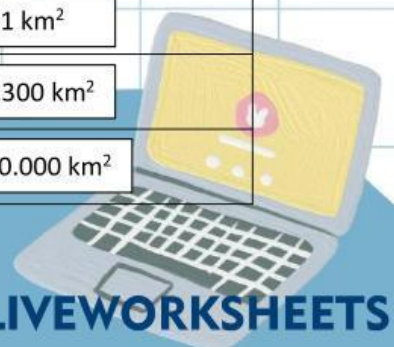
2. Letak Geografis Asia (membuat tanda centang ✓)

No	Benua	Letak geografis (batas-batas Benua)			
		Utara	Selatan	Timur	Barat
1	Samudra Pasifik, Selat bering	<input type="text"/>	<input type="text"/>	<input type="text"/>	<input type="text"/>
2	Samudra Arktik	<input type="text"/>	<input type="text"/>	<input type="text"/>	<input type="text"/>
3	Benua Eropa, Pegunungan Ural, Laut Kaspia, Laut Hitam	<input type="text"/>	<input type="text"/>	<input type="text"/>	<input type="text"/>
4	Samudra Hindia	<input type="text"/>	<input type="text"/>	<input type="text"/>	<input type="text"/>

3. Luas Benua di Dunia

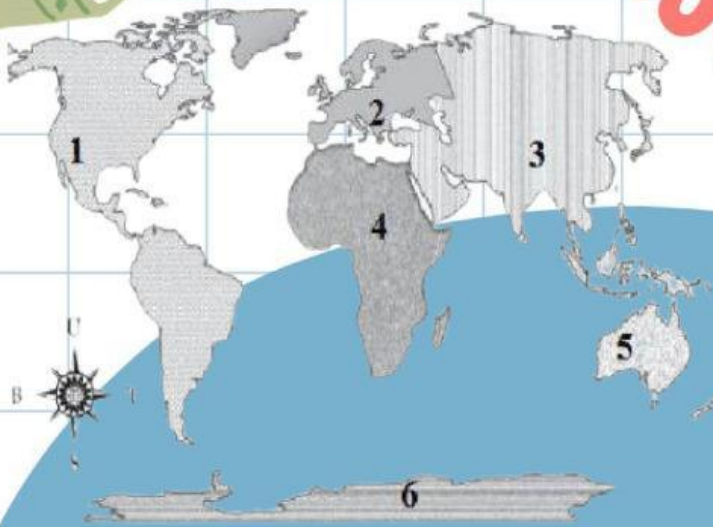
Isi Benua dengan menarik nama benua dan luasnya, kemudian tempelkan di tabel sesuai urutan luasnya!

No	Urutan benua sesuai urutannya	Luas
1		AFRIKA : 29.800.540 km ²
2		AMERIKA : 37.012.713 km ²
3		EROPA : 10.355.000 km ²
4		ASIA : 43.149.671 km ²
5		AUSTRALIA : 7.682.300 km ²
6		ANTARTIKA : 13.660.000 km ²





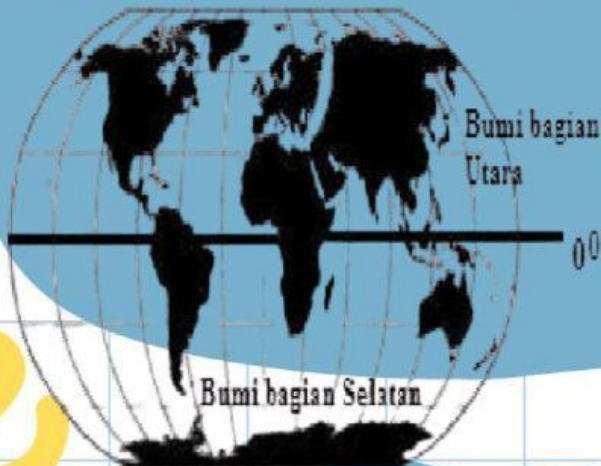
4. Gambar 1



Pasangkan Nama Benua dengan nomor gambar benua di peta dengan cara menarik garis pasangannya.

AUSTRALIA
ASIA
EROPA
AMERIKA
ANTARTIKA
AFRIKA

4. Gambar 2 (Pilihlah jawaban yang benar!)



Benua yang seluruh wilayahnya berada di wilayah belahan bumi bagian utara adalah ...

Benua yang seluruh wilayahnya berada di wilayah belahan bumi bagian selatan adalah ...

a.

b.

Benua yang seluruh wilayahnya berada di wilayah belahan bumi bagian utara dan selatan adalah ...

a.

c.

b.



5. Gambar 3



Benua yang seluruh wilayahnya berada di wilayah belahan bumi bagian timur adalah ...

a.

b.

Benua yang seluruh wilayahnya berada di wilayah belahan bumi bagian barat adalah ...

Benua yang seluruh wilayahnya berada di wilayah belahan bumi bagian timur dan barat adalah ...

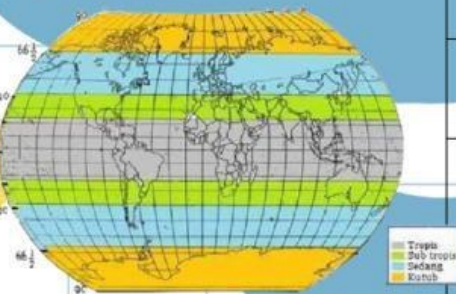
a.

c.

b.

6. Keadaan Iklim-iklim di dunia

Keadaan iklim benua-benua menurut pembagian iklim matahari, dapat dilihat pada gambar berikut ini.



Perhatikan Gambar!

Berilah tanda centang (✓) pada jenis iklim matahari sesuai nama benua yang ada!

No	Benua	Jenis Iklim			
		Tropis	Subtropis	Sedang	Dingin
1	Asia	<input type="checkbox"/>	<input type="checkbox"/>	<input type="checkbox"/>	<input type="checkbox"/>
2	Amerika	<input type="checkbox"/>	<input type="checkbox"/>	<input type="checkbox"/>	<input type="checkbox"/>
3	Afrika	<input type="checkbox"/>	<input type="checkbox"/>	<input type="checkbox"/>	<input type="checkbox"/>
4	Antartika	<input type="checkbox"/>	<input type="checkbox"/>	<input type="checkbox"/>	<input type="checkbox"/>
5	Eropa	<input type="checkbox"/>	<input type="checkbox"/>	<input type="checkbox"/>	<input type="checkbox"/>
6	Australia	<input type="checkbox"/>	<input type="checkbox"/>	<input type="checkbox"/>	<input type="checkbox"/>