





















L'heure

Choisis l'heure correcte.

  <div>Il est deux heures</div> <div>Il est quatorze heures</div>	  <div>Il est huit heures</div> <div>Il est vingt heures</div>
  <div>Il est dix heures</div> <div>Il est vingt-deux heures</div>	  <div>Il est trois heures</div> <div>Il est quinze heures</div>
  <div>Il est quatre heures</div> <div>Il est seize heures</div>	  <div>Il est neuf heures et demie</div> <div>Il est vingt et une heures et demie</div>
  <div>Il est sept heures et demie</div> <div>Il est dix-neuf heures et demie</div>	  <div>Il est six heures et demie</div> <div>Il est dix-huit heures et demie</div>
  <div>Il est treize heures</div> <div>Il est douze heures cinq</div>	  <div>Il est cinq heures et demie</div> <div>Il est six heures cinq</div>