

# ПРИНЦИП МНОЖЕННЯ № 3

Додай та помнож, користуючись кількістю намальованих зображень.  
Впиши отримане число у відповідному місці.




$4+4=$

$4 \times 2 =$



$4+4+4=$

$4 \times 3 =$




$4+4+4+4=$

$4 \times 4 =$




$4+4+4+4+4=$

$4 \times 5 =$




$$4 + 4 + 4 + 4 + 4 + 4 =$$

$$4 \times 6 =$$




$$4+4+4+4+4+4+4 =$$

$$4 \times 7 =$$



$$4+4+4+4+4+4+4+4 =$$

$$4 \times 8 =$$



$$4+4+4+4+4+4+4+4+4 =$$

$$4 \times 9 =$$

Перейди за посиланням та виконай  
інтерактивне завдання

**Таблиця множення числа 4**