

LATIHAN
"BILANGAN CACAH"

Nama Lengkap :

Kelas :

Kerjakanlah soal berikut dengan teliti!

1. Kecamatan Banjarmasin Timur terletak di Kota Banjarmasin, Provinsi Kalimantan Selatan. Pada tahun 2022, penduduk kecamatan ini berjumlah 119.847 jiwa yang terdiri atas 59.387 jiwa laki-laki dan enam puluh ribu empat ratus enam puluh jiwa perempuan.

Jawablah pertanyaan berikut!

- a. Tuliskan cara membaca jumlah penduduk di Kecamatan Banjarmasin Timur!

Jawab:

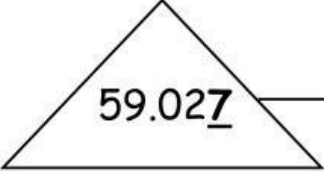

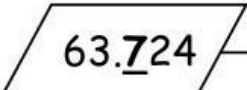
- b. Berapakah jumlah penduduk perempuan di Kecamatan Banjarmasin Timur? Tuliskan bilangannya!

Jawab:

- c. Berapakah selisih jumlah penduduk laki-laki dan perempuan di Kecamatan Banjarmasin Timur?

Jawab:

2. Tulis nilai tempat dari angka yang bergaris bawah!

	—————	Satuan
	—————
	—————

3. Aku adalah suatu bilangan. Aku merupakan jumlah dari 8 lembar sepuluh ribuan, 6 lembar seribuan, dan 3 keping seratusan. Aku adalah

a. 86.300

c. 80.630

b. 86.030

d. 80.603

4.



Uraikanlah harga kotak pensil di atas!

Jawab:

..... = + + + +

5. Toko Sumber Buah menjual beberapa jenis buah, di antaranya mangga, alpukat, jeruk, buah naga, dan kelengkeng. Harga satu bungkus mangga Rp23.500,00; harga satu bungkus jeruk Rp17.000,00; harga satu bungkus kelengkeng Rp34.000,00; harga satu bungkus buah naga Rp15.000,00; dan harga satu bungkus alpukat Rp32.000,00.

- a. Pilihlah pernyataan yang sesuai dengan isi teks di atas dengan memberikan tanda centang (✓) pada kolom 'Benar' atau 'Salah'!

Pernyataan	Benar	Salah
1) Harga buah yang paling mahal yaitu alpukat.		
2) Urutan buah dari yang paling murah yaitu buah naga, jeruk, mangga, alpukat, kelengkeng.		
3) Harga buah yang paling murah yaitu buah naga.		

- b. Pasangkan pernyataan di Kolom A dan di Kolom B secara tepat, dengan cara memberi garis!

Kolom A

Kolom B

Humaira membeli buah mangga, alpukat, kelengkeng, jeruk, dan buah naga masing-masing satu bungkus. Berapakah harga yang harus dibayar?

Rp23.000,00

Raihan membeli dua bungkus buah naga dan Daffa membeli satu bungkus kelengkeng. Berapakah selisih uang yang harus dibayarkan?

Rp4.000,00

Nisa mempunyai uang Rp100.000,00 dan ia membeli dua bungkus mangga dan dua bungkus buah naga. Berapakah uang Nisa yang tersisa?

Rp121.500,00

6. Azizah dibawa oleh 128 gantungan kunci dari ayahnya. Paman Azizah juga memberikan 76 gantungan kunci pada Azizah. Azizah ingin membagi sama rata gantungan kunci buat 5 temannya dan Azizah sendiri. Berapakah gantungan kunci Azizah sekarang? (Tuliskan caranya!)

Jawab:

7. Perhatikan struk pembayaran berikut!

GUEST:5	
24 Jun 23 02:27:09 PM	
TEL: 30 / 1	
2	KWTW GRG ISTIMEWA 69,090
1	MIE GRG ISTIMEWA 34,545
1	NASI GRG SFOOD 34,545
1	LYCHEE ICE TEA 22,727
1	ES LEMON TEA 20,000
1	ES TEH MANIS 7,272
1	JUICE SEMANGKA 20,000
1	TONGSENG AYAM+NAS 36,363
1	AIR MINERAL (B) 10,000
SUB TOTAL 254,542	
PAJAK RESTORAN 25,454	
Total: 280,000	
PAYMENT 280,000	
CASH 280,000	

Amar dan keluarganya sedang makan siang di sebuah restoran. Amar memesan nasi goreng dan jus semangka. Berapakah total harga makanan yang dipesan Amar? (Tuliskan caranya!)

Jawab: