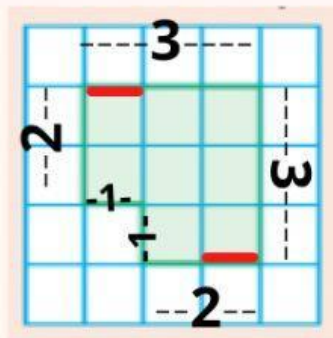




# EL PERIMETRO



El perímetro es la suma de las longitudes de sus lados.



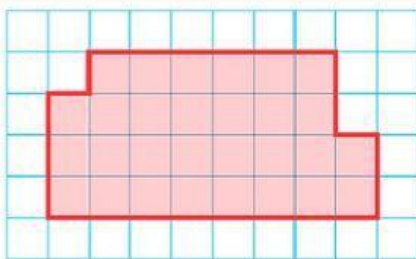
$$\text{Perímetro} = 3+3+2+2+1+1=12 \text{ unidades}$$



Solo tienes que contar los cuadritos que hay en cada lado de la figura y sumarlos pero...

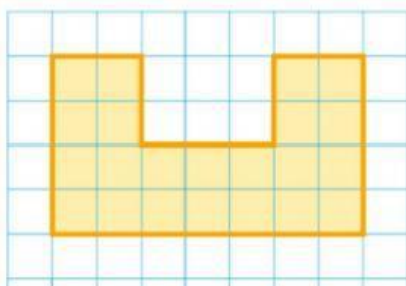
¡Ten cuidado y no te dejes ninguno sin contar!

1. Calcula el perímetro de cada figura.



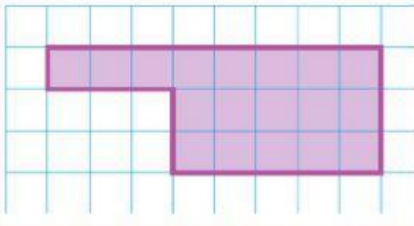
$$\text{---} + \text{---} + \text{---} + \text{---} + \text{---} + \text{---} + \text{---} + \text{---} = \text{---}$$

$$\text{Perímetro} = \text{---} \text{ unidades}$$



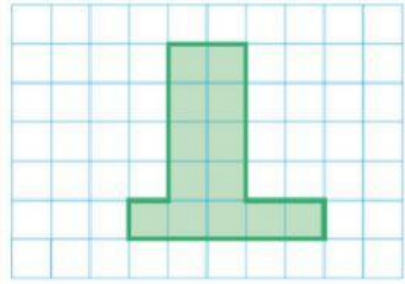
$$\text{---} + \text{---} + \text{---} + \text{---} + \text{---} + \text{---} + \text{---} + \text{---} = \text{---}$$

$$\text{Perímetro} = \text{---} \text{ unidades}$$



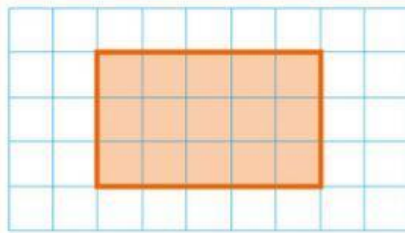
$$\text{---} + \text{---} + \text{---} + \text{---} + \text{---} + \text{---} + \text{---} = \text{---}$$

Perímetro= ----- unidades



$$\text{---} + \text{---} + \text{---} + \text{---} + \text{---} + \text{---} + \text{---} = \text{---}$$

Perímetro= ----- unidades



$$\text{---} + \text{---} + \text{---} + \text{---} = \text{---}$$

Perímetro= ----- unidades

¡Espero que lo hayas entendido!

