

E-LKPD

LINGKUNGAN HIDUP

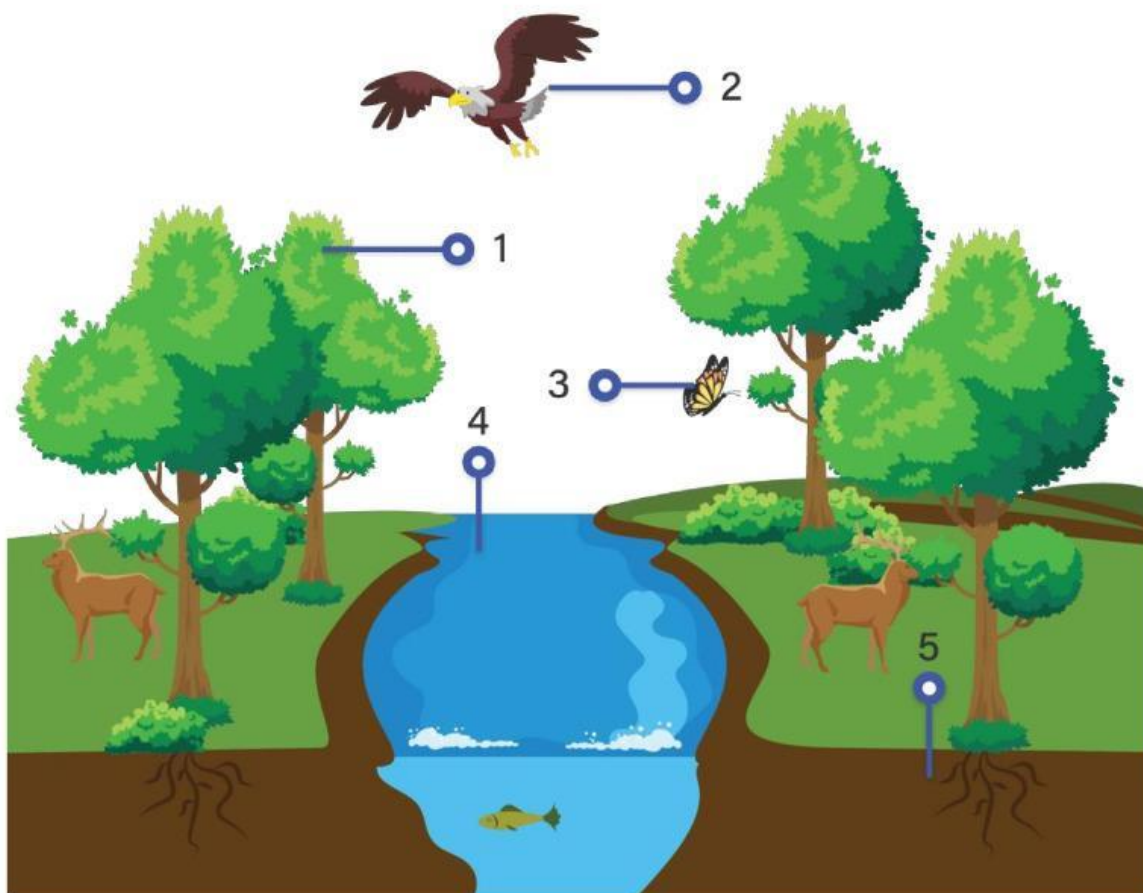
PIPAS

SMK MANBAIL FUTUH

Kerjakan latihan berikut!

**Jika sudah selesai klik finish. Lalu klik send my answer to my teacher. Kemudian isikan nama, kelas, IPAS, dan email:
muhibbatulhusnah57@guru.sma.belajar.id**

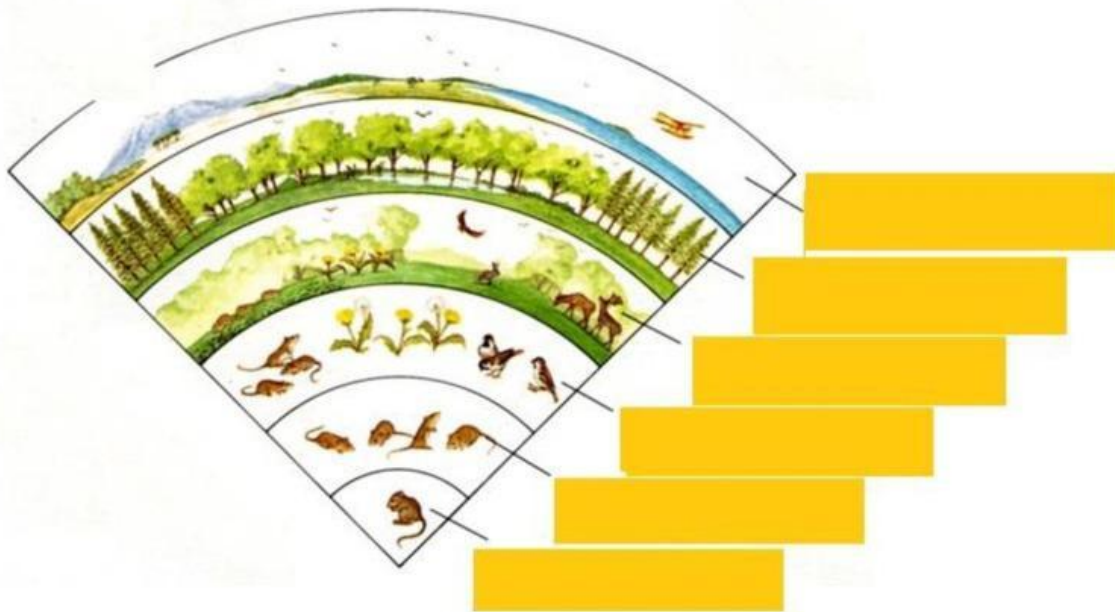
Perhatikan gambar di bawah ini!



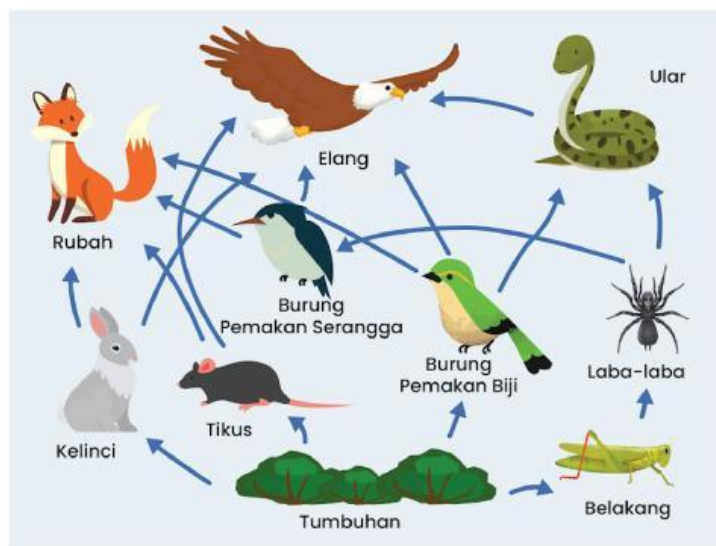
Pada gambar di atas komponen biotik ditunjukkan oleh nomor

- A. 1, 2, dan 3
- B. 3, 4, dan 5
- C. 1, 3, dan 5
- D. 2, 3 dan 4

Amati setiap gambar penyusun ekosistem di bawah ini, kemudian cocokkan dengan pilihan jawaban!



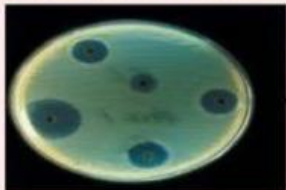
Perhatikan gambar jaring-jaring makanan di bawah ini!



Semua makhluk hidup saling mempengaruhi pada setiap rantai makanan pada jaring-jaring makanan. Apa yang terjadi pada rubah, burung elang dan tumbuhan, jika kelinci dan tikus berkurang . . .

- A. populasi rubah dan elang berkurang dan populasi tumbuhan bertambah
- B. tidak berpengaruh kepada populasi rubah elang dan tumbuhan
- C. populasi rubah dan elang bertambah banyak dan populasi tumbuhan berkurang
- D. populasi rubah, elang dan rumput bertambah banyak

■ Amatilah gambar contoh pola interaksi dalam ekosistem di bawah ini kemudian cocokkan dengan keterangan jenis-jenis pola interaksi di sampingnya dengan memberikan panah pada pola interaksi yang sesuai!



SIMBIOSIS MUTUALISME

SIMBIOSIS KOMENSALISME


SIMBIOSIS PARASITISME

PREDASI

KOMPETISI

NETRALISME

ANTIBIOSIS

 Temukanlah jawaban pada kotak dibawah!

- a. Interaksi antara 2 makhluk hidup berbeda spesies yang saling berhubungan disebut.....
- b. Organisme yang merugikan organisme yang ditumpanginya bersifat....
- c. Jenis tumbuhan yang merugikan yang sering menumpang pada tumbuhan lain adalah.....
- d. interaksi antara mangsa dan pemangsa dalam sebuah ekosistem.....

Q	D	V	E	R	P	T	M
S	K	B	E	N	A	L	U
I	P	A	R	A	S	I	T
M	O	M	I	P	Z	C	U
B	L	L	A	A	O	K	A
I	I	U	I	S	S	O	L
O	P	R	E	D	A	S	I
S	S	W	X	A	S	H	S
I	O	N	A	J	L	S	M
S	J	I	D	I	E	O	E

Perahtikan gambar hewan dibawah ini! Jawaban bisa lebih dari satu

Yang termasuk jenis hewan karnivora dan herbivora adalah...



Dalam rantai makanan yang berperan sebagai produsen adalah...

- a. Tumbuhan
- b. Sapi
- c. Ular
- d. Elang

Urutkan rantai makanan berikut dengan cara menggeser gambar dan meletakkan pada kolom yang tersedia dengan tepat!

